

PROCESSO SELETIVO SIMPLIFICADO | TARDE | EDITAL: 2021



Instituto Brasileiro de Geografia e Estatística

AGENTE DE PESQUISAS POR TELEFONE

CADERNO DE PROVA OBJETIVA

LEIA COM ATENÇÃO AS INSTRUÇÕES ABAIXO.

- 1 Ao receber este caderno de prova, confira inicialmente se os dados transcritos acima estão corretos e se estão corretamente registrados na sua **Folha de Respostas**. Confira também seus dados em cada página numerada deste caderno de prova (**desconsidere estas instruções, caso se trate de caderno de prova reserva**). Em seguida, verifique se ele contém a quantidade de questões indicada em sua **Folha de Respostas**, correspondentes à prova objetiva. Caso o caderno esteja incompleto, tenha qualquer defeito e(ou) apresente divergência quanto aos seus dados, solicite, de imediato, ao(à) aplicador(a) de prova mais próximo(a) que tome as providências necessárias.
- 2 Durante a realização da prova, não se comunique com outros(as) candidatos(as) nem se levante sem autorização de um(a) dos(as) aplicadores(as) de prova.
- 3 Na duração da prova, está incluído o tempo destinado à identificação — que será feita no decorrer da prova — e ao preenchimento da **Folha de Respostas**.
- 4 Ao terminar a prova, chame o(a) aplicador(a) de prova mais próximo(a), devolva-lhe a sua **Folha de Respostas** e deixe o local de prova.
- 5 Nenhuma folha deste caderno pode ser destacada, exceto a **Folha de Respostas**, cujo cabeçalho será destacado pelo(a) chefe de sala ao final da prova, para fins de desidentificação.
- 6 A desobediência a qualquer uma das determinações constantes em edital, no presente caderno ou na **Folha de Respostas** implicará a anulação da sua prova.

OBSERVAÇÕES

- Não serão conhecidos recursos em desacordo com o estabelecido em edital.
- É permitida a reprodução deste material apenas para fins didáticos, desde que citada a fonte.

INFORMAÇÕES ADICIONAIS

0800 536 4885 | ibge@cebraspe.org.br | www.cebraspe.org.br



- Nas questões a seguir, marque, para cada uma, a única opção correta, de acordo com o respectivo comando. Para as devidas marcações, use a **Folha de Respostas**, único documento válido para a correção da sua prova.
- Eventuais espaços livres — identificados ou não pela expressão “Espaço livre” — que constarem deste caderno de prova poderão ser utilizados para rascunho.

-- PROVA OBJETIVA --

Língua Portuguesa

Texto 1A1-I

Não sei quando começou a necessidade de fazer listas, mas posso imaginar nosso antepassado mais remoto riscando na parede da caverna, à luz de uma tocha, signos que indicavam quanto de alimento havia sido estocado para o inverno que se aproximava ou, como somos competitivos, a relação entre nomes de integrantes da tribo e o número de caças abatidas por cada um deles.

Se formos propor uma hermenêutica acerca do tema, talvez possamos afirmar que existem dois tipos de listas: as necessárias e as inúteis. Em muitos casos, dialeticamente, as necessárias tornam-se inúteis e as inúteis, necessárias. Tomemos dois exemplos. Todo mês, enumero as coisas que faltam na despensa de minha casa antes de me dirigir ao supermercado; essa lista arrola na categoria das necessárias. Por outro lado, há pessoas que anotam suas metas para o ano que se inicia: começar a fazer ginástica, parar de fumar, cortar em definitivo o açúcar, ser mais solidário, menos intolerante... Essa elenca na categoria das inúteis.

Feitas as compras, a lista do supermercado, necessária, torna-se então inútil. A lista contendo nossos desejos de sermos melhores para nós mesmos e para os outros, embora inútil, pois dificilmente a cumprimos, converte-se em necessária, porque estabelece um vínculo com o futuro, e nos projetar é uma forma de vencer a morte.

Tudo isso para justificar o que se segue. Ninguém me perguntou, mas resolvi organizar uma lista dos melhores romances que li em minha vida — escolhi o número vinte, não por motivos místicos, mas porque talvez, pela amplitude, alinhava, mais que preferências intelectuais, uma história afetiva das minhas leituras. Enquadro-a na categoria das listas inúteis, mas, quem sabe, se consultada, muncie discussões, já que toda escolha é subjetiva e aleatória, ou, na melhor das hipóteses, suscite curiosidade a respeito de um título ou de um autor. Ocorresse isso, me daria por satisfeito.

Luiz Ruffato. **Meus romances preferidos.**
Internet: <brasil.elpais.com> (com adaptações).

Questão 1

No texto 1A1-I, o critério utilizado pelo autor para distinguir as listas úteis das inúteis é

- A a dificuldade em cumprir as tarefas listadas.
- B a intenção de cumprir as tarefas listadas.
- C o esforço empreendido para cumprir as tarefas listadas.
- D o tempo necessário para cumprir as tarefas listadas.
- E a obrigação de cumprir as tarefas listadas.

Questão 2

Segundo o texto 1A1-I, a origem da necessidade de fazer listas

- A remonta a pré-história.
- B relaciona-se com o inverno.
- C coincide com a invenção da escrita.
- D é desconhecida pelo autor do texto.
- E foi desvendada a partir de desenhos nas paredes de cavernas.

Questão 3

Assinale a opção que indica o principal critério adotado pelo autor do texto 1A1-I na seleção de vinte obras para compor a lista dos melhores romances da sua vida.

- A a história afetiva das suas leituras
- B a variedade das obras
- C as suas preferências intelectuais
- D as suas crenças religiosas
- E a curiosidade sobre as obras

Questão 4

Infere-se do texto 1A1-I que o autor esclarece que toda a explicação acerca das duas categorias de listas foi apresentada com a finalidade de justificar

- A o motivo de ele ter organizado uma lista de romances que, a princípio, é inútil.
- B o fato de ele ter escolhido vinte obras para representar seus romances preferidos.
- C o fato de as pessoas serem competitivas.
- D a análise peculiar do autor acerca da necessidade humana de fazer listas.
- E a importância das listas na vida das pessoas.

Questão 5

No segundo parágrafo do texto 1A1-I, o emprego das reticências indica que

- A o autor não quis revelar todas as suas metas para o novo ano.
- B a lista de metas apresentada não é exaustiva.
- C o autor mudou de ideia entre uma frase e outra.
- D a lista de metas para o ano novo não tem fim.
- E o autor não conclui seu pensamento.

Questão 6

Mantendo-se o sentido original do texto 1A1-I, a locução “formos propor” (início do segundo parágrafo) poderia ser corretamente substituída pela forma verbal

- A propuséssemos.
- B proporemos.
- C propusermos.
- D proporíamos.
- E propúnhamos.

Questão 7

Na frase “Essa elenca na categoria das inúteis” (segundo parágrafo do texto 1A1-I), o termo “elencar” significa

- A mencionar.
- B preferir.
- C interpretar.
- D entender.
- E dispor.

Questão 8

No trecho “como somos competitivos” (primeiro parágrafo do texto 1A1-I), a conjunção “como” expressa o mesmo que

- A conforme.
- B tanto quanto.
- C apesar de.
- D porque.
- E embora.

Questão 9

De acordo com o texto 1A1-I, o autor ficaria satisfeito se sua lista de romances

- A fosse consultada.
- B se tornasse útil.
- C gerasse conflito entre as pessoas.
- D motivasse mais pessoas a fazer listas com suas obras prediletas.
- E despertasse em alguém a vontade de conhecer alguma daquelas obras ou seus autores.

Questão 10

No texto 1A1-I, a forma pronominal “a” empregada no trecho “Enquadro-a na categoria das listas inúteis” (último parágrafo) refere-se a

- A “uma história afetiva das minhas leituras” (último parágrafo).
- B “a lista do supermercado” (penúltimo parágrafo).
- C “minha vida” (último parágrafo).
- D “uma lista dos melhores romances que li em minha vida” (último parágrafo).
- E “A lista contendo nossos desejos de sermos melhores para nós mesmos e para os outros” (penúltimo parágrafo).

Questão 11

Assinale a opção que apresenta uma proposta de reescrita que seja gramaticalmente correta e mantenha o sentido do seguinte trecho do último parágrafo do texto 1A1-I: “Ocorresse isso, me daria por satisfeito”.

- A Quando isso acontece, estarei satisfeito.
- B Assim que isso aconteça, ficarei satisfeito.
- C Se isso acontecesse, eu me consideraria satisfeito.
- D Enquanto isso acontecer, eu continuarei satisfeito.
- E Mesmo que isso acontecesse, estaria satisfeito.

Questão 12

Sabendo que o texto 1A1-I poderia ser classificado como um artigo de opinião, porque, de modo geral, apresenta características que definem esse gênero textual, assinale a opção que apresenta um exemplo dessas características.

- A a utilização da primeira pessoa gramatical para a exposição do ponto de vista do autor
- B a apresentação de argumentos de autoridade para reforçar o ponto de vista do autor
- C a ausência de quaisquer pontos de vista que sejam contrários ao do autor
- D a adoção de apenas argumentos isentos de subjetividade
- E a divulgação de informações atualizadas sobre um tema de relevância social

Texto 1A2-I

Chamarei de literatura, da maneira mais ampla possível, todas as criações de toque poético, ficcional ou dramático em todos os níveis de uma sociedade, em todos os tipos de cultura.

A literatura aparece como manifestação universal de todos os homens em todos os tempos. Não há povo e não há homem que possa viver sem ela, isto é, sem a possibilidade de entrar em contato com alguma espécie de fabulação. Assim como todos sonham todas as noites, ninguém é capaz de passar as vinte e quatro horas do dia sem alguns momentos de entrega ao universo fabulado.

Ora, se ninguém pode passar vinte e quatro horas sem mergulhar no universo da ficção e da poesia, a literatura concebida no sentido amplo a que me referi parece corresponder a uma necessidade universal, que precisa ser satisfeita e cuja satisfação constitui um direito.

A literatura é o sonho acordado das civilizações. Portanto, assim como não é possível haver equilíbrio psíquico sem o sonho durante o sono, talvez não haja equilíbrio social sem a literatura. Desse modo, ela é fator indispensável de humanização e, sendo assim, confirma o homem na sua humanidade. Humanização é o processo que confirma no homem aqueles traços que reputamos essenciais, como o exercício da reflexão, a aquisição do saber, a boa disposição para com o próximo, o afinamento das emoções, a capacidade de penetrar nos problemas da vida, o senso da beleza, a percepção da complexidade do mundo e dos seres, o cultivo do humor.

A literatura desenvolve em nós a quota de humanidade, na medida em que nos torna mais compreensivos e abertos à natureza, à sociedade e ao semelhante. A literatura corresponde a uma necessidade universal que deve ser satisfeita sob a pena de mutilar a personalidade, porque, pelo fato de dar forma aos sentimentos e à visão do mundo, ela nos organiza, nos liberta do caos e, portanto, nos humaniza. A fruição da arte e da literatura, em todas modalidades e em todos os níveis, é um direito inalienável.

Antonio Candido. *O direito à literatura*. In: *Vários escritos*. 5ª ed. Rio de Janeiro: Ouro sobre o azul, 2011 (com adaptações).

Questão 13

No primeiro parágrafo do texto 1A2-I, no trecho “Chamarei de literatura, da maneira mais ampla possível, todas as criações de toque poético, ficcional ou dramático em todos os níveis de uma sociedade, em todos os tipos de cultura”, o autor apresenta uma

- A argumentação.
- B concepção.
- C explicação.
- D delimitação.
- E explanação.

Questão 14

Segundo o autor do texto 1A2-I, a literatura é uma prática artística

- A circunstancial.
- B eventual.
- C atemporal.
- D ocasional.
- E especial.

Questão 15

No trecho “Assim como todos sonham todas as noites, ninguém é capaz de passar as vinte e quatro horas do dia sem alguns momentos de entrega ao universo fabulado” (segundo parágrafo do texto 1A2-I), o autor estabelece uma relação de

- A causa.
- B proporção.
- C adição.
- D comparação.
- E conformação.

Questão 16

O autor do texto 1A2-I defende que

- A o equilíbrio social depende necessariamente da literatura.
- B o homem independe da literatura para ratificar sua humanidade.
- C a literatura é crucial para que todos os traços essenciais de humanização se manifestem.
- D a humanidade concretiza-se tanto no inconsciente quanto no subconsciente do homem.
- E o contato com a literatura humaniza as pessoas.

Questão 17

No trecho “a literatura concebida no sentido amplo a que me referi parece corresponder a uma necessidade universal, que precisa ser satisfeita e cuja satisfação constitui um direito”, a expressão “a que” poderia ser corretamente substituída por

- A à que.
- B aquele que.
- C que.
- D ao qual.
- E àquela que.

Questão 18

Infer-se do trecho “A literatura é o sonho acordado das civilizações”, do texto 1A2-I, que, com a literatura, as pessoas entregam-se à

- A certeza.
- B reflexão.
- C distopia.
- D realização.
- E imaginação.

Questão 19

No trecho “A literatura desenvolve em nós a quota de humanidade, na medida em que nos torna mais compreensivos e abertos à natureza, à sociedade e ao semelhante” (primeiro período do último parágrafo do texto 1A2-I), a expressão “na medida em que” poderia ser substituída, sem prejuízo para a correção gramatical e para os sentidos originais do texto, por

- A à proporção que.
- B à medida que.
- C uma vez que.
- D mesmo que.
- E quando.

Questão 20

Pelos sentidos do texto 1A2-I, é correto afirmar que o vocábulo “inalienável” (último período) foi empregado no sentido daquilo que não pode ser

- A negado.
- B vendido.
- C cedido.
- D desviado.
- E rechaçado.

Texto 1A2-II

Diego não conhecia o mar. O pai, Santiago Kovadloff, levou-o para que descobrisse o mar. Viajaram para o Sul. Ele, o mar, estava do outro lado das dunas altas, esperando.

Quando o menino e o pai enfim alcançaram aquelas alturas de areia, depois de muito caminhar, o mar estava na frente de seus olhos. E foi tanta a imensidão do mar, e tanto fulgor, que o menino ficou mudo de beleza.

E, quando finalmente conseguiu falar, tremendo, gaguejando, pediu ao pai: — Me ajuda a olhar!

Eduardo Galeano. *A função da arte/1. In: O livro dos abraços*. Tradução de Eric Nepomuceno. 9.ª ed. Porto Alegre: L&PM, 2002 (com adaptações).

Questão 21

O vocábulo “fulgor” foi empregado no texto 1A2-II com o mesmo sentido de

- A espanto.
- B vigor.
- C nevoeiro.
- D satisfação.
- E brilho.

Questão 22

No texto 1A2-II, a experiência de Diego é marcada

- A pela cumplicidade.
- B pelo emudecimento.
- C pela perplexidade.
- D pelo estarecimento.
- E pelo entendimento.

Questão 23

O texto 1A2-II enquadra-se no gênero textual

- A conto.
- B fábula.
- C notícia.
- D carta.
- E poesia.

Questão 24

No início do texto 1A2-II, o nome “Santiago Kovadloff” foi empregado entre vírgulas porque

- A explica o vocábulo “pai”.
- B precisa o vocábulo “pai”.
- C caracteriza o vocábulo “pai”.
- D qualifica o vocábulo “pai”.
- E especifica o vocábulo “pai”.

Questão 25

No trecho “E, quando finalmente consegui falar, tremendo, gaguejando, pediu ao pai: — Me ajuda a olhar!”, do texto 1A2-II, sem prejuízo para a correção gramatical e os sentidos do texto,

- I as vírgulas empregadas logo após “E” e “falar” poderiam ser suprimidas.
 II o trecho “tremendo, gaguejando” poderia ser isolado por parênteses, com a devida supressão da vírgula empregada após o vocábulo “falar”.
 III o ponto de exclamação poderia ser substituído por um ponto de interrogação.

Assinale a opção correta.

- A** Apenas o item II está certo.
B Apenas o item III está certo.
C Apenas os itens I e II estão certos.
D Apenas os itens I e III estão certos.
E Todos os itens estão certos.

Matemática e Raciocínio Lógico**Questão 26**

Considere que, para determinada indústria, a produção de janeiro/2021 tenha sido 4% superior à produção de dezembro/2020 e que a produção de fevereiro/2021 tenha sido 7% inferior à produção de janeiro/2021. Nessa situação, com relação a dezembro/2020, a produção dessa indústria em fevereiro/2021

- A** cresceu menos de 3%.
B cresceu mais de 4%.
C decresceu mais de 3%.
D decresceu menos de 3%.
E decresceu mais de 4%.

Texto 1A3-I

Aldo, produtor de uvas, dispõe de 10 trabalhadores para realizar a colheita do seu plantio. Na época adequada, para acelerar o processo de colheita, Aldo contratou mais 5 trabalhadores, que se juntaram aos 10 já existentes.

Questão 27

Tendo como base o texto 1A3-I, suponha que com os 10 trabalhadores originais a colheita seria realizada em 6 dias e que os 5 novos trabalhadores trabalham com a mesma eficiência dos 10 originais. Nessa situação, com as novas contratações, a colheita será realizada em

- A** 1 dia.
B 2 dias.
C 3 dias.
D 4 dias.
E 5 dias.

Questão 28

Ainda com base no texto 1A3-I, suponha que do grupo de 15 trabalhadores fosse constituída uma comissão de 3 membros e que exatamente um desses membros devesse ser escolhido entre os 5 trabalhadores novos. Nessa situação, a quantidade de comissões distintas que podem ser formadas é igual a

- A** 25.
B 225.
C 450.
D 455.
E 1.350.

Texto 1A3-II

Em 2001, a produção anual de batatas da fazenda Alfa foi de 60 toneladas. Nos anos seguintes, essa produção anual aumentou em progressão aritmética de razão igual a 4 toneladas.

Questão 29

A partir das informações do texto 1A3-II, conclui-se que a produção anual de batatas da fazenda Alfa foi igual ao dobro da produção de 2001 no ano de

- A** 2002.
B 2006.
C 2010.
D 2012.
E 2016.

Questão 30

Ainda a partir das informações do texto 1A3-II, conclui-se que a produção total de batatas da fazenda Alfa, colhida desde o ano de 2001 até o ano de 2020, foi igual a

- A** 136 toneladas.
B 240 toneladas.
C 1.200 toneladas.
D 1.960 toneladas.
E 4.800 toneladas.

Espaço livre

Texto 1A4-I

Considere a seguinte proposição P:

Se produz as informações de que o Brasil necessita, o IBGE ajuda o país a estabelecer políticas públicas e justifica o emprego dos recursos que lhe são destinados.

Questão 31

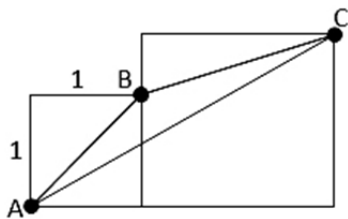
Tendo como referência o texto 1A4-I, verifica-se que a quantidade de linhas da tabela-verdade da proposição P que apresentam valor lógico F é igual a

- A 1.
- B 2.
- C 3.
- D 4.
- E 5.

Questão 32

Assinale a opção que apresenta uma proposição equivalente à proposição P apresentada no texto 1A4-I.

- A Se ajuda o país a estabelecer políticas públicas e justifica o emprego dos recursos que lhe são destinados, o IBGE produz as informações de que o Brasil necessita.
- B Se não produz as informações de que o Brasil necessita, o IBGE não ajuda o país a estabelecer políticas públicas e não justifica o emprego dos recursos que lhe são destinados.
- C Se não produz as informações de que o Brasil necessita, o IBGE não ajuda o país a estabelecer políticas públicas ou não justifica o emprego dos recursos que lhe são destinados.
- D Se não ajuda o país a estabelecer políticas públicas e não justifica o emprego dos recursos que lhe são destinados, o IBGE não produz as informações de que o Brasil necessita.
- E Se não ajuda o país a estabelecer políticas públicas ou não justifica o emprego dos recursos que lhe são destinados, o IBGE não produz as informações de que o Brasil necessita.

Questão 33

Na figura anterior, sabendo-se que a área do triângulo ABC independe do tamanho do lado do quadrado que contém o ponto C, conclui-se que a área desse triângulo é igual a

- A $\frac{7}{8}$.
- B $\frac{3}{4}$.
- C $\frac{2}{3}$.
- D $\frac{1}{2}$.
- E $\frac{1}{4}$.

Questão 34

Considere que uma pesquisa com 1.000 pessoas tenha revelado as seguintes informações: nos quatro primeiros meses de 2021,

- 350 pessoas tiveram aumento em suas rendas;
- 400 pessoas receberam recursos financeiros não previstos;
- 150 pessoas, mesmo recebendo recursos financeiros não previstos, tiveram redução em suas rendas;
- 300 pessoas mantiveram suas rendas, mesmo sem receber recursos financeiros não previstos.

Com base nessas informações, conclui-se que, no período mencionado,

- A o número de pessoas que receberam recursos financeiros não previstos e tiveram aumento de renda é superior ao número de pessoas que não receberam recursos financeiros não previstos e tiveram redução de renda.
- B entre as pessoas que receberam recursos financeiros não previstos, a maioria teve redução de renda.
- C entre as pessoas que não receberam recursos financeiros não previstos, o número de pessoas que conseguiram manter suas rendas foi inferior ao número dos que tiveram redução de renda.
- D menos de 100 pessoas tiveram aumento de renda mesmo sem receber recursos financeiros não previstos.
- E menos de 50 pessoas receberam recursos financeiros não previstos e tiveram aumento de renda.

Questão 35

Considere que, quando Carlos, agente de pesquisas por telefone, realiza uma chamada telefônica, a chance de que a sua chamada não seja atendida seja de 20% e que, se a chamada for atendida, a chance de que ele obtenha respostas verdadeiras seja de 60%. Nessa situação, a probabilidade de Carlos obter respostas verdadeiras em uma dada chamada telefônica é igual a

- A 12%.
- B 48%.
- C 60%.
- D 80%.
- E 88%.

Espaço livre

Ética no Serviço Público

Questão 36

Considere que um agente de pesquisa por telefone se dê conta, durante um teletendimento, de que a pessoa com quem ele está falando é um amigo seu muito próximo. Nessa situação hipotética, considerando-se o disposto no Código de Ética do IBGE, o agente de pesquisa

- A deve encerrar imediatamente a pesquisa.
- B deve continuar a pesquisa e informar o fato a seu superior.
- C pode continuar a pesquisa, devendo tratar o amigo com urbanidade e atenção.
- D pode continuar a pesquisa, devendo aproveitar para usar uma linguagem pessoal que facilite a condução do trabalho.
- E deve passar o atendimento ao colega mais próximo.

Questão 37

Considere as seguintes situações hipotéticas.

- I Determinado agente de pesquisa por telefone, sem autorização para tanto, comentou com um jornalista o resultado de uma pesquisa ainda não divulgada pelo IBGE, do que resultou a publicação de uma extensa matéria jornalística sobre o assunto.
- II Tendo testemunhado seu superior hierárquico utilizar veículo do IBGE para tratar de assuntos pessoais, determinado agente de pesquisa por telefone representou contra ele à autoridade competente.
- III Determinado agente de pesquisa por telefone tomou emprestado da repartição onde trabalha, sem conhecimento ou autorização da chefia, impressora para imprimir, durante o mês de dezembro, os trabalhos escolares finais de seu filho e, em seguida, a devolveu intacta.

É correto afirmar que o agente de pesquisa por telefone agiu em conformidade com o disposto no Código de Ética do IBGE

- A apenas na situação I.
- B apenas na situação II.
- C apenas nas situações I e III.
- D apenas nas situações II e III.
- E nas situações I, II e III.

Questão 38

A Comissão de Ética do IBGE pode aplicar a servidor público a pena de

- A censura.
- B demissão.
- C suspensão.
- D advertência.
- E cassação.

Questão 39

Conforme a Lei n.º 8.112/1990, em caso de exercício irregular de suas atribuições, o servidor público poderá responder na(s) esfera(s)

- A administrativa, apenas.
- B penal, apenas.
- C administrativa e civil, apenas.
- D civil e penal, apenas.
- E administrativa, civil e penal.

Questão 40

Considerando-se o disposto no Código de Ética do IBGE, é permitido ao servidor

- A alegar divergência religiosa para se negar a atender um usuário.
- B retardar prestação de contas a seu cargo em caso de ordem expressa de superior hierárquico.
- C deixar de se atualizar quanto a instruções de serviço se não houver capacitação oficial do órgão para tal.
- D abster-se de exercer as prerrogativas funcionais a ele atribuídas se contrárias aos interesses legítimos de usuário.
- E exercer suas funções com finalidade estranha ao interesse público se as formalidades legais estiverem sendo observadas.

Conhecimentos Gerais

Questão 41

O desmatamento é a retirada total ou parcial da vegetação. Um forte exemplo do desmatamento no Brasil ocorreu na Mata Atlântica, desmatada para a obtenção de madeiras, plantação e ampliação de cidades.

Internet: <aiesec.org.br> (com adaptações).

Segundo a Associação Internacional de Estudantes de Ciências Econômicas e Comerciais (AIESEC), um dos maiores problemas ambientais do Brasil é o volume do desmatamento. Do ponto de vista socioeconômico, no contexto atual, o desmatamento

- A atinge diretamente as florestas brasileiras, mas é necessário para o desenvolvimento do país.
- B leva a caminhos de reflexão, análise e busca por ações voltadas à sustentabilidade ambiental como alternativa para o desenvolvimento.
- C vem sendo a saída mais sustentável para a minimização da desigualdade entre os povos da floresta.
- D afeta puramente a população do campo, já que a derrubada das árvores modifica o clima e afeta a agropecuária.
- E vem sendo controlado, com o volume vegetal remanescente conforme o previsto na lei.

Questão 42

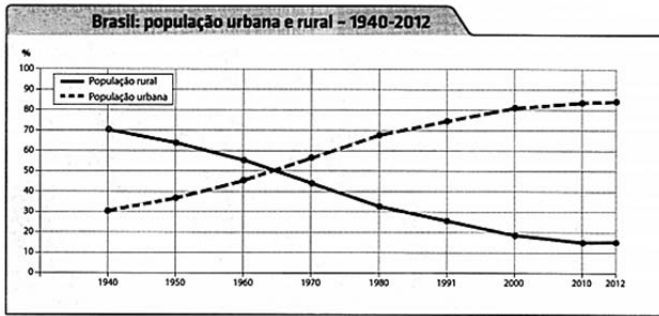
A distinção e a delimitação entre a cidade e o campo tornaram-se uma tarefa mais difícil a partir da acentuação das articulações entre esses espaços. Essa maior acentuação foi condicionada pela revolução técnico-científica, que intensificou os processos de urbanização e industrialização; promoveu o desenvolvimento do capitalismo no campo e a consequente modernização da agricultura.

Internet: >www.observatorium.ig.ufu.br< (com adaptações).

Os conceitos que melhor se aplicam às relações entre a cidade e o campo abordadas no texto são os de

- A fragmentação e ruptura.
- B crescimento e equidade.
- C separação e desarticulação.
- D complementaridade e interdependência.
- E horizontalidade e verticalidade.

Questão 43



IBGE. Sinopse do Censo Demográfico 2013. In: Wagner Costa Ribeiro. Por dentro da geografia. São Paulo: Saraiva, 2015. Internet: <www.ibge.gov.br>.

O gráfico apresentado demonstra o comportamento percentual das populações urbana e rural no Brasil. Tendo esse gráfico como referência inicial, assinale a opção correta.

- A O crescimento da população urbana se deu em virtude de o crescimento vegetativo das cidades ser historicamente maior que a taxa de reprodução da população rural.
- B A redução da população rural se deveu aos altos índices de mortalidade no campo, devido às precárias condições socioeconômicas e à falta de saneamento básico.
- C O comportamento do gráfico pode ser explicado pelo êxodo rural, causado pela modernização do campo e pelas oportunidades de emprego surgidas no setor urbano.
- D O cruzamento das duas linhas do gráfico responde pela indução governamental que levou a maior parte da população do campo para as cidades.
- E A análise do gráfico permite inferir que a tendência é que as duas linhas se cruzem em um futuro próximo, devido à redefinição nas relações entre o campo e a cidade.

Questão 44



Internet: <contextoshistoricos.blogspot.com>.

O processo de urbanização no Brasil produziu uma série de distorções e desequilíbrios que se manifestaram empiricamente de variadas formas, pois foi, e é, gerador de uma ampla gama de demandas de exclusão e reinclusão que concretamente cristalizam-se sob as formas de desequilíbrios regionais, urbano-rurais e urbano-urbanos.

Internet: <rigs.ufba.br> (com adaptações).

Considerando-se o papel do Estado perante as classes sociais no que se refere ao espaço de moradia da população urbana brasileira, a charge e o texto remetem à(ao)

- A desigualdade socioespacial urbana.
- B fragmentação da dicotomia campo-cidade.
- C estado atual da periferia urbana.
- D auxílio emergencial à população urbana total.
- E unificação econômica do espaço rural e do urbano.

Questão 45

O Brasil é um grande importador de combustíveis fósseis e maquinários. E é exportador de produtos agrícolas, que possuem baixo valor agregado. Por isso, manter a balança comercial positiva é um desafio. Ela é o cálculo que representa o valor das exportações menos o das importações.

Internet: <www.politize.com.br> (com adaptações).

Depreende-se do texto que, diante da globalização econômica, o Brasil possui

- A grande fluidez do capital e lucros garantidos com o destaque no volume de exportação dos produtos agrícolas e do maquinário em geral.
- B estabilidade no processo de compra e venda, por estar sempre com saldo positivo perante o comércio internacional de mercadorias.
- C permanente dificuldade econômica, já que o volume exportado de produtos mais baratos não ultrapassa o volume de importação dos produtos mais caros.
- D grande desigualdade de renda da população, decorrente da exportação dos produtos agrícolas que deveriam alimentar o mercado interno.
- E trabalho constante para manter a balança comercial em superávit, já que exporta produtos mais baratos e tem que importar produtos mais caros.

Questão 46

O termo globalização gera intenso debate quanto ao seu significado e suas características centrais. Em meio a essa acalorada discussão, no entanto, foi possível chegar a alguns consensos e um deles refere-se ao fato de que, apesar de a globalização ser um fenômeno mundial, seus impactos são locais e regionais, impulsionando mudanças que se desenvolvem de diferentes formas e com intensidade variada.

Internet: <www.scielo.br> (com adaptações).

A globalização como um fenômeno mundial, mas de rebatimentos locais e regionais, tem como consequências

- A o pleno emprego e o crescimento econômico, com a minimização das desigualdades.
- B a competitividade e o consumo, com a geração de maiores danos ao meio ambiente.
- C o atraso tecnológico e maior fluidez nas comunicações internas.
- D a alimentação mais natural e saudável e o surgimento de muitos vírus com mais poder de contágio.
- E o fechamento dos países ao investimento externo e o bloqueio econômico.

Questão 47

A formação de blocos regionais que surgiram através da integração econômica se caracteriza, na verdade, como um processo, o qual, normalmente, se distingue por várias etapas. Quando tais etapas são projetadas para o âmbito social e político dão à formação do bloco a característica de união total.

Internet: <trilhante.com.br> (com adaptações).

Acerca da formação e da integração econômica dos blocos regionais, assinale a opção correta.

- Ⓐ Os blocos possuem o intuito de fortalecer a economia nacional e proporcionar mútua assistência, formando um mercado comum forte e competitivo no âmbito mundial.
- Ⓑ A finalidade é sempre chegar a uma união aduaneira, último estágio da formação de um bloco, que permite a circulação de produtos, pessoas, bens, capitais e força de trabalho.
- Ⓒ Atualmente o bloco em estágio mais avançado é a União Europeia, com destaque para o Reino Unido, sua maior potência econômica.
- Ⓓ A estabilidade política e econômica do Mercosul chama a atenção do mundo para seus membros efetivos: Brasil, Argentina, Paraguai, Uruguai e Venezuela.
- Ⓔ O Brasil, devido a sua riqueza mineral e natural e seu maior parceiro comercial ser a China, faz parte do bloco regional que envolve países da Ásia e do Pacífico.

Questão 48

A cidade é uma gigantesca fábrica de homens modernos. Com base nessa certeza, o projeto nacional-desenvolvimentista formulou — no Brasil e em quase toda a América Latina —, durante as décadas de 50 e 60 do século passado, uma grande questão e avivou uma grande esperança: como o Estado pode construir uma sociedade cultural e politicamente moderna? O projeto nacional-desenvolvimentista carregava consigo a grande esperança de extensão ampla dos benefícios econômicos, políticos e sociais da modernidade a toda a sociedade brasileira.

Internet: <memorialdademocracia.com.br> (com adaptações).

O desenvolvimentismo brasileiro formulou uma visão econômica politicamente engajada no país, e uma das suas ideias mais fortes, diante da sua implantação, e que melhor se encaixa como *slogan* para a época seria:

- Ⓐ O capital externo é a solução para a erradicação da pobreza social no Brasil.
- Ⓑ Sem as indústrias de bens de consumo e de base, não há solução para esse país.
- Ⓒ O capital nacional é todo o suporte para o desenvolvimentismo industrial.
- Ⓓ A industrialização é a via da superação da pobreza e do subdesenvolvimento.
- Ⓔ Com a exportação e a mecanização agrícola, o crescimento econômico virá.

Questão 49

O projeto para o país do segundo governo de Getúlio Vargas foi pautado pelo ideário do nacional-desenvolvimentismo. Para executar seus programas de industrialização, Getúlio concentrou-os em duas instâncias: o Ministério da Fazenda e a Assessoria Econômica.

Internet: <memorialdademocracia.com.br> (com adaptações).

O nacional-desenvolvimentismo foi iniciado por Getúlio Vargas, embora tenha tido seu salto maior no governo de Juscelino Kubitschek. Desde sua primeira passagem pelo governo federal, o governo Vargas já tinha elementos desenvolvimentistas. Uma das marcas mais fortes dos dois governos de Getúlio Vargas foi a

- Ⓐ associação com o capital externo, para o crescimento econômico.
- Ⓑ democratização política para a condução econômica do país.
- Ⓒ intervenção estatal em áreas consideradas de interesse nacional.
- Ⓓ ditadura política, para que houvesse o desenvolvimento econômico.
- Ⓔ flexibilização das leis trabalhistas, para o aumento do vínculo empregatício.

Questão 50

Em 1872, o índice de Gini*, uma das possíveis medidas da desigualdade de distribuição de renda, pode ter sido de 0,56, segundo estimativas recentes. Quase cinquenta anos depois (1920), o índice parece ter piorado, chegando a 0,622. Em 1976, outros cinquenta anos decorridos, tínhamos o mesmo valor, 0,62. E, em 2006, o índice era de 0,57, equivalente, então, ao encontrado 130 anos antes.

Internet: <www.scielo.br> (com adaptações).

*O valor zero para o índice de Gini representa a situação de igualdade, ou seja, todos têm a mesma renda. O valor um (ou cem por cento) está no extremo oposto, isto é, uma só pessoa detém toda a riqueza (IPEA, 2004).

A partir do texto, assinale a opção correta.

- Ⓐ Com todo o avanço tecnológico e industrial, em mais de um século o Brasil não conseguiu uma melhora significativa em seu índice de Gini.
- Ⓑ O texto demonstra que a equivalência no índice de Gini deve-se ao exponencial crescimento populacional do país.
- Ⓒ O índice de Gini é praticamente o mesmo em 1872 e 2006 em decorrência do fato de que antigamente havia mais terras para a subsistência da população.
- Ⓓ O mesmo índice de Gini em 1920 e 1976 deve-se à estabilidade demográfica do Brasil, pois as taxas de natalidade e mortalidade eram equivalentes nesses períodos.
- Ⓔ A piora no índice de Gini de 1976 deveu-se ao acontecimento da Segunda Guerra Mundial, já que nossos insumos vêm do exterior.

Questão 51

A identificação e a delimitação de novos desenhos regionais denominados pelo IBGE de regiões de articulação urbana encontram-se vinculadas à compreensão das transformações socioespaciais que ocorrem no país. Acerca desse assunto, é correto afirmar que as regiões de articulação urbana

- A foram construídas a partir dos eixos de expansão urbana sobre as áreas rurais, com o urbano compreendido como materialização de um processo dinâmico de ocupação do espaço.
- B compreendem a zona central de uma cidade e os seus diferentes bairros, articulados em um tecido social e construtivo desigual.
- C correspondem aos centros de gestão do território e envolvem diversos tipos de fluxos organizados em rede.
- D embasam a produção de planos diretores e de desenvolvimento de municípios em relação apenas aos aspectos econômicos.
- E são constituídas por um único município dentro de uma unidade da Federação brasileira.

Questão 52

A divisão urbano-regional do Brasil proposta pelo IBGE (2013) apresenta três níveis escalares de articulação urbana do território brasileiro: as regiões ampliadas, as regiões intermediárias e as regiões imediatas. A respeito dessa divisão urbano-regional, assinale a opção correta.

- A A divisão urbano-regional do Brasil leva em conta a distribuição das metrópoles por cada estado e a quantidade de população concentrada nessas aglomerações urbanas.
- B O Brasil apresenta uma divisão urbano-regional pouco articulada em nível federativo e econômico, pois a economia nacional apresenta níveis diferenciados de desenvolvimento e articulação entre sistemas urbanos sem a necessária complementaridade socioeconômica.
- C As regiões ampliadas de articulação urbana são constituídas por 14 sistemas urbanos-regionais que têm o protagonismo dos fluxos socioeconômicos no processo contínuo de estruturação do território nacional.
- D As regiões imediatas de articulação urbana correspondem aos sistemas urbano-regionais que refletem a acessibilidade e a capacidade de atender a demanda de produtos e serviços em escala nacional.
- E As regiões intermediárias de articulação urbana correspondem aos sistemas urbanos formados por municípios que integram nós logísticos, ou seja, a confluência de diversos tipos de modais de transporte regional.

Questão 53

Assinale a opção correta, a respeito dos arranjos populacionais e das concentrações urbanas do Brasil.

- A A concentração populacional em um ou mais municípios é característica do modelo territorial brasileiro adequado à realidade mundial, em que a presença crescente de atividades econômicas dinamiza a urbanização.
- B O novo modelo de urbanização brasileira reconfigura as concentrações urbanas do Brasil, havendo a dispersão de empregos pelas periferias e o esvaziamento das áreas centrais tanto de atividades econômicas quanto de população.
- C A região metropolitana de São Paulo é a maior concentração populacional do país e tem como elemento de atração a oferta de empregos em seu imenso parque industrial, com a indústria como principal gerador de empregos e impostos.
- D Um arranjo populacional é o agrupamento de dois ou mais municípios mesmo que entre ele não haja uma forte integração populacional.
- E Os arranjos populacionais apresentam espaços vazios ou com ocupação rarefeita entre os municípios integrantes, sendo a contiguidade da mancha urbanizada verificada apenas em regiões metropolitanas.

Questão 54

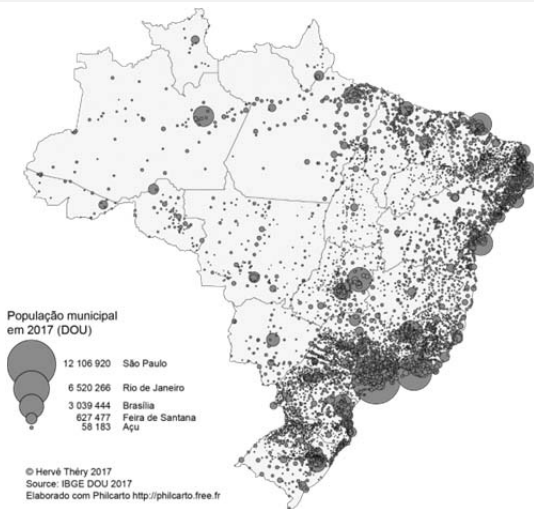
O potencial exportador do Brasil é muito grande, principalmente no setor de produção de *commodities*. A lista dos principais produtos exportados pelo Brasil indica a forte participação do setor do agronegócio na balança comercial brasileira. Acerca desse tema, assinale a opção correta.

- A A partir do processo de privatizações e da participação de empresas estrangeiras, petróleo, gás e derivados passaram a ocupar o lugar de principais itens da pauta de exportações do Brasil.
- B A retração da economia global na última década diminuiu a exportação brasileira de minério de ferro, principalmente para o mercado europeu, maior consumidor do minério brasileiro.
- C O rebanho bovino brasileiro é o maior em escala global e a exportação de carne é principalmente destinada aos mercados norte-americano e europeu.
- D A soja tem sido o principal produto de exportação do Brasil, principalmente para o abastecimento do mercado chinês.
- E O potencial de exportação do Brasil tem caído nos últimos anos em razão da crise que o país atravessa em diversos setores: ambiental, político e cambial.

Questão 55

As descobertas de petróleo e gás natural no pré-sal estão entre as mais importantes atividades em expansão no Brasil nas últimas décadas. O pré-sal coloca o Brasil em uma posição estratégica considerando-se o aumento da demanda mundial e nacional de energia. No que se refere a essa temática, assinale a opção correta.

- Ⓐ A exploração de petróleo e gás natural na reserva do pré-sal depende da importação de tecnologia e de mão de obra estrangeira, o que pouco impacta a economia nacional.
- Ⓑ A bacia de Santos corresponde à área de maior produção de petróleo e gás na plataforma oceânica brasileira.
- Ⓒ A grande profundidade das reservas de petróleo e gás natural impede a exploração desses recursos em larga escala, pois o Brasil depende de parcerias com centros internacionais de pesquisa e exploração.
- Ⓓ O pré-sal corresponde a reservas de petróleo e gás encontradas entre dois e quatro mil metros de profundidade, o que corresponde à plataforma oceânica brasileira em áreas de até 200 km da linha da costa.
- Ⓔ O petróleo e o gás explorados no pré-sal são um recurso energético mineral de origem orgânica e armazenado em rochas magmáticas e metamórficas no subsolo oceânico.

Questão 56

Tendo a figura anterior como referência sobre a dinâmica da população brasileira, assinale a opção correta.

- Ⓐ O território brasileiro apresenta zonas de concentração intensa de população ao longo dos principais rios da bacia Amazônica.
- Ⓑ A interiorização da ocupação do território se revela na região Nordeste, que apresenta índices elevados de concentração demográfica no interior e a diminuição da população no litoral.
- Ⓒ A figura apresenta a concentração de população nas diferentes regiões brasileiras, que se mantém inalterada desde a segunda metade do século XX.
- Ⓓ As faixas de fronteira apresentam uma concentração demográfica em expansão, principalmente ao sul e norte do país.
- Ⓔ A região concentrada corresponde à área de maior concentração de população no Brasil e também de maior infraestrutura, sendo formada pelo Sudeste e Sul do país.

Questão 57

A divisão regional do Brasil consiste no agrupamento de estados e municípios em regiões com a finalidade de atualizar o conhecimento regional do país e viabilizar a definição de uma base territorial para fins de levantamento e divulgação de dados estatísticos. O IBGE é o órgão público responsável pela divisão regional oficial do país. A respeito da divisão regional oficial do país, assinale a opção correta.

- Ⓐ A divisão regional oficial foi proposta em 1988 pela Constituição Federal e organizou o território nacional em três complexos regionais: Nordeste, Amazônia e Sudeste.
- Ⓑ A divisão regional oficial foi feita a partir de critérios físicos relacionados aos biomas e às paisagens regionais do país.
- Ⓒ A divisão regional oficial não sofreu alterações desde sua primeira versão, em razão do seu caráter de subsídios às políticas públicas.
- Ⓓ A divisão das macrorregiões considera os estados como entes federativos, categoria que se aplica apenas a esse tipo de unidade territorial.
- Ⓔ A divisão regional do Brasil visa contribuir com uma perspectiva para a compreensão da organização do território nacional e assistir os entes federativos na implantação e na gestão de políticas públicas e investimentos.

Questão 58

No que se refere à composição da matriz energética brasileira, assinale a opção correta.

- Ⓐ O uso em larga escala de fontes de energia não renováveis coloca a matriz energética brasileira em um patamar de forte impacto ao meio ambiente.
- Ⓑ A produção de cana-de-açúcar destina-se tanto ao setor de alimentos quanto ao energético, com a produção de álcool para uso em automóveis; seu bagaço, entretanto, é um rejeito não aproveitado e descartado na natureza.
- Ⓒ As fontes de energia renováveis, principalmente a hidrelétrica, têm expressiva participação na matriz energética brasileira.
- Ⓓ Os conflitos de uso da água para abastecimento, irrigação e geração de energia colocam esse recurso na categoria de recurso não renovável e têm diminuído a participação do setor hidrelétrico na geração de energia.
- Ⓔ A energia eólica tem baixa participação na matriz energética brasileira e o seu alto custo tem impedido a expansão da participação dessa fonte de energia na matriz energética nacional.

Questão 59

A expansão da agropecuária capitalista no Brasil, referenciada no modelo agroexportador, se consolida territorialmente no que denominamos de Polígono do Agro-hidronegócio, a contar com o oeste de São Paulo, leste do Mato Grosso do Sul, noroeste do Paraná, Triângulo Mineiro e sul e sudoeste de Goiás.


Antônio Thomaz Júnior. O agro-hidronegócio no centro das disputas territoriais e de classe no Brasil do século XXI. Campo-território: Revista de Geografia Agrária, v. 5, n. 10, p. 92-122, ago. 2010. Internet: <www.seer.ufu.br> (com adaptações).

Tendo como referência o texto precedente, assinale a opção correta quanto ao agro-hidronegócio.

- A Da ocorrência de elevados índices de pluviosidade, principalmente no centro-sul brasileiro, decorre a importância das chamadas culturas de sequeiro, ou seja, irrigadas pela chuva abundante sem necessitar de outras fontes de água.
- B O acesso à água é regulado pelo governo federal por meio do instrumento dos comitês de bacias hidrográficas, o que leva ao uso sustentável desse recurso em seus diversos usos: agrícola, abastecimento urbano, geração de energia.
- C No cerrado, a ocorrência de grande quantidade de recursos hídricos garante a expansão da irrigação sem impactos negativos ao meio ambiente.
- D A composição de produtos agropecuários para a exportação inclui um recurso estratégico: a água — não se exporta apenas a soja, o açúcar ou a celulose, exporta-se também a água gasta na produção dessas *commodities*.
- E A expansão da agricultura irrigada ocorre apenas nas regiões Centro-Oeste e Nordeste, onde os recursos hídricos apresentam limitações sazonais.

Questão 60

A fecundidade da brasileira despencou – em total de filhos por mulher



Tendo a figura precedente como motivadora, assinale a opção correta, a respeito da dinâmica da população brasileira.

- A A diminuição da taxa de fecundidade, o aumento da expectativa de vida e o envelhecimento da população brasileira têm provocado mudanças nas dinâmicas da população e na composição das famílias.
- B A composição da família brasileira em 2020 é do tipo monoparental: um casal e um filho.
- C A urbanização da sociedade não impactou as dinâmicas demográficas do Brasil.
- D No transcorrer da evolução histórica, a organização familiar permanece inalterada, tanto no que se refere a sua tipologia quanto ao número de integrantes.
- E A família brasileira atual é do tipo nuclear, ou seja, um casal e dois filhos.

Espaço livre