



## CÂMARA MUNICIPAL DE SERTÃOZINHO

ESTADO DE SÃO PAULO

CONCURSO PÚBLICO

### 004. PROVA OBJETIVA

#### ESCRITURÁRIO

- ◆ Você recebeu sua folha de respostas e este caderno contendo 50 questões objetivas.
- ◆ Confira seus dados impressos na capa deste caderno e na folha de respostas.
- ◆ Quando for permitido abrir o caderno, verifique se está completo ou se apresenta imperfeições. Caso haja algum problema, informe ao fiscal da sala.
- ◆ Leia cuidadosamente todas as questões e escolha a resposta que você considera correta.
- ◆ Marque, na folha de respostas, com caneta de tinta preta, a letra correspondente à alternativa que você escolheu.
- ◆ A duração da prova é de 3 horas, já incluído o tempo para o preenchimento da folha de respostas.
- ◆ Só será permitida a saída definitiva da sala e do prédio após transcorridos 75% do tempo de duração da prova.
- ◆ Ao sair, você entregará ao fiscal a folha de respostas e este caderno, podendo levar apenas o rascunho de gabarito, localizado em sua carteira, para futura conferência.
- ◆ Até que você saia do prédio, todas as proibições e orientações continuam válidas.

**AGUARDE A ORDEM DO FISCAL PARA ABRIR ESTE CADERNO DE QUESTÕES.**

Nome do candidato \_\_\_\_\_

RG \_\_\_\_\_

Inscrição \_\_\_\_\_

Prédio \_\_\_\_\_

Sala \_\_\_\_\_

Carteira \_\_\_\_\_



## CONHECIMENTOS GERAIS

### LÍNGUA PORTUGUESA

Leia o texto para responder às questões de números **01** a **08**.

#### *Agravamento da poluição por plástico nos oceanos ao lavar roupa*

Lavar a roupa pode agravar a poluição por plástico no meio ambiente – a depender do tipo de tecido, a tarefa doméstica contribuiria para a contaminação dos oceanos, apontam estudos.

A questão foi levantada no início deste mês em reunião do Comitê de Auditoria Ambiental do Reino Unido, quando membros do Parlamento discutiram pesquisas que concluem que fibras de tecidos sintéticos que se soltam da roupa durante a lavagem acabam chegando aos oceanos e sendo comidas por peixes e outras criaturas aquáticas.

Os maiores vilões são poliéster, acrílico e náilon. Um saco de lã de poliéster libera 1 milhão de fibras, enquanto um par de meias de náilon é responsável por 136 mil fibras a cada lavagem, aponta um estudo conduzido por pesquisadores da Universidade de Manchester. Cientistas descobriram que essas fibras estão cobrindo leitos de rios em todo o Reino Unido.

Há sempre a opção de lavar roupa com menos frequência, o que pode ser uma boa desculpa para quem sempre odiou essa tarefa doméstica. Isso teria um grande impacto positivo, na avaliação de Jeroen Dagevos, integrante de um projeto de conservação dos oceanos. Ele sugere ainda que comprar menos roupas sintéticas também ajuda. Preferir tecidos como lã, algodão, seda e caxemira também ajudam.

Uma outra opção, recomendada pelo Instituto de Engenheiros Mecânicos, em um novo relatório, seria o uso de sacolas de roupas de malha para reter os fios. Assim, em vez de irem direto para os oceanos, as fibras podem ser colocadas no lixo.

Jeroen Dagevos diz que a ideia de criar novas regulamentações para os fabricantes poderia ajudar, forçando as empresas a colocar mais recursos na busca por soluções.

(Folha de S.Paulo. <https://www1.folha.uol.com.br/ambiente/2018/10/por-que-podemos-estar-agravando-a-poluicao-por-plastico-nos-oceanos-ao-lavar-roupa.shtml>. Adaptado)

**01.** De acordo com o texto, um dos fatores que contribui para a minimização da poluição dos oceanos por plástico se refere

- (A) à utilização de sacolas de roupas de malha para a lavagem de tecidos sintéticos, sendo o descarte dos fios realizado diretamente nos rios.
- (B) ao descarte de roupas que precisam ser higienizadas, para que as fibras dos tecidos não sejam depositadas nos rios.
- (C) à redução de tarefas domésticas, visando a interrupção da contaminação na água dos rios e oceanos.
- (D) à redução do consumo de malhas sintéticas, optando pelo uso de tecidos com fibras de baixo impacto na natureza.
- (E) à lavagem de roupas à mão, com o intuito de reduzir o atrito das roupas na lavagem e a perda das fibras dos tecidos.

**02.** De acordo com o texto, a poluição por plástico

- (A) gera a necessidade da criação de novas regulamentações de produção e expansão da pesquisa de novos materiais, por parte dos fabricantes.
- (B) limita-se à contaminação dos rios em todo o Reino Unido, devido ao descarte de fibras na lavagem de tecidos.
- (C) é causada pelo consumo excessivo de roupas produzidas com lã, algodão, seda e caxemira.
- (D) pode ser evitada com o uso de máquinas de lavar na temperatura normal para a lavagem de roupas de diferentes tecidos.
- (E) estimula o desenvolvimento de pesquisa para a produção de novos produtos com base nos materiais poliéster, acrílico e náilon.

**03.** O termo destacado na frase “**Isso** teria um grande impacto positivo, na avaliação de Jeroen Dagevos...” refere-se à seguinte informação do texto:

- (A) a compra de menos roupas com tecidos sintéticos para reduzir a poluição dos rios e oceanos.
- (B) a lavagem de roupas com menos frequência para reduzir a eliminação das fibras dos tecidos das roupas.
- (C) a preferência por tecidos de lã, algodão, seda e caxemira para preservar o meio ambiente.
- (D) a criação de novas regulamentações para os fabricantes a fim de reduzir a eliminação das fibras dos tecidos das roupas.
- (E) a busca de novas soluções pela empresa para reduzir o impacto ambiental nos rios e oceanos.

**04.** A palavra destacada no segmento “... fibras de tecidos sintéticos que se soltam da roupa **durante** a lavagem acabam chegando aos oceanos...” exprime ideia de

- (A) modo.
- (B) causa.
- (C) tempo.
- (D) finalidade.
- (E) intensidade.

05. Na frase “Um casaco de lã de poliéster libera 1 milhão de fibras, **enquanto** um par de meias de náilon é responsável por 136 mil fibras a cada lavagem...”, o termo em destaque pode ser substituído corretamente, sem alteração de sentido, por
- (A) assim que.
  - (B) tanto como.
  - (C) de modo que.
  - (D) a fim de que.
  - (E) à medida que.
06. O termo destacado na frase “Uma outra opção, recomendada pelo Instituto de Engenheiros Mecânicos, em um novo relatório, seria o uso de sacolas de roupas de malha **para** reter os fios.” expressa
- (A) modo.
  - (B) meio.
  - (C) finalidade.
  - (D) tempo.
  - (E) lugar.
07. Considere as frases do texto:
- Lavar a roupa pode **agravar** a poluição por plástico no meio ambiente...
  - Uma outra opção, recomendada pelo Instituto de Engenheiros Mecânicos, em um novo relatório, seria o uso de sacolas de roupas de malha para **reter** os fios.
- Os termos destacados nas frases significam, correta e respectivamente,
- (A) abrandar; não avançar.
  - (B) piorar; não deixar escapar.
  - (C) sobrecarregar; soltar.
  - (D) aliviar; impedir de sair.
  - (E) reprimir; liberar.
08. Assinale a alternativa em que a redação escrita a partir do texto está correta quanto à concordância das palavras, de acordo com a norma-padrão da língua portuguesa.
- (A) Os oceanos podem ser contaminado por determinadas tarefas, como a lavagem de roupas de tecidos sintéticos.
  - (B) Os membros do Parlamento apresentou pesquisas sobre as fibras de tecidos sintéticas que são expelidas das roupas ao serem lavadas em máquinas de lavar.
  - (C) Ocorrerão a conservação dos oceanos se as autoridades criarem regulamentações para os fabricantes.
  - (D) Uma boa desculpa, com todas as indicações propostas pelo autor, é a lavagem de roupas com menos frequência.
  - (E) Também é necessário a compra de menos roupas sintética para reduzir a poluição por plástico nos ambientes.
09. Assinale a alternativa em que a regência das palavras está de acordo com a norma-padrão da língua portuguesa.
- (A) A técnica de fabricação é muito favorável com o meio ambiente exigindo muito menos água do que o cultivo de algodão.
  - (B) Atividades diárias, como lavar roupas, contribuem significativamente para a poluição que asfixia nos - sos oceanos.
  - (C) Os resíduos produzidos se caracterizam pela sua elevada toxicidade, implicand o pela elevação dos riscos associados à sua destinação final.
  - (D) As preocupações em obedecer das exigências legais da qualidade do efluente ou resíduo industrial produzido foram superadas por novas metas de qualidade.
  - (E) As empresas precisam ser responsáveis com o ciclo de vida completo de seus produtos, incluindo a coleta e a reutilização.
10. Assinale a alternativa que preenche, correta e respectivamente, as lacunas do texto a seguir, conforme a norma-padrão da língua portuguesa.
- Lavar roupas sintéticas na máquina \_\_\_\_\_ temperatura normal causa a liberação no esgoto de grandes quantidades de minúsculas fibras de plástico. Essa é a primeira pesquisa \_\_\_\_\_ identificar os fiapos da roupa lavada como uma fonte de poluição. Estes fiapos se adicionam \_\_\_\_\_ preocupações quanto a outras variedades maiores e mais visíveis de lixo plástico, que resultaram em medidas como \_\_\_\_\_ proibição de sacolas de compras feitas desse material.
- (A) à ... a ... às ... a
  - (B) a ... à ... as ... à
  - (C) à ... à ... as ... à
  - (D) à ... a ... às ... à
  - (E) a ... a ... às ... a

Leia o texto para responder às questões de números 11 a 15.

### Vacina na marra

Uma das piores coisas que pais podem fazer a seus filhos é privá-los de vacinas. Ainda assim, devo dizer que fiquei chocado com o artigo de uma promotora do Ministério Público, no qual ela defende não só multa para genitores que deixem de imunizar seus rebentos, mas também a busca e apreensão das crianças para vaciná-las.

Imagino até que a adoção de medidas extremas como propõe a promotora possa fazer sentido em determinados contextos, como o de uma epidemia fatal que avança rapidamente e pais que, induzidos por vilões internacionais, se recusam a imunizar seus filhos.

Há motivos para acreditar que as sucessivas quedas na cobertura vacinal registradas por aqui se devam mais a uma combinação de desleixo paterno com inadequações da rede do que a uma maciça militância antivacinal. Há até quem afirme que a queda é menor do que a anunciada pelo Ministério da Saúde, que, por problemas técnicos, não estaria recebendo informações atualizadas de alguns municípios.

Seja como for, tenho a convicção de que, se a fórmula mais draconiana propugnada por ela fosse adotada, acabaríamos produzindo mais mal do que bem.

O ponto central é que o sistema de saúde precisa ser visto pelo cidadão como um aliado e não como um adversário. Se a percepção que as pessoas têm do posto de saúde for a de que ele é uma entidade que pode colocar a polícia atrás de famílias para subtrair-lhes os filhos, elas terão bons motivos para nunca mais pôr os pés numa unidade.

A ideia de que o sistema de saúde precisa ser protegido de ações que possam minar a confiança que o público lhe deposita não é estranha ao mundo do direito. Não é por outra razão que a legislação penal e códigos de ética proíbem o profissional de saúde de divulgar segredos de pacientes e até de denunciar crimes que tenham cometido.

(Hélio Schwartsman. Disponível em: <https://www1.folha.uol.com.br/colunas/heliosschwartzman/2018/08/vacina-na-marra.shtml>. Acesso em 11.11.2018. Adaptado)

11. Diante de sucessivas quedas registradas na cobertura vacinal de crianças brasileiras, uma promotora do Ministério Público defende

- (A) a necessidade da apresentação do comprovante de vacinação de crianças em idade escolar.
- (B) o acionamento da legislação penal para deter os responsáveis pela criança que não foram vacinadas no período certo.
- (C) a violação do código de ética que interdita a criança da convivência social para o bem da saúde coletiva de outras crianças.
- (D) a aplicação de multa e a possível perda da guarda dos filhos por determinação judicial.
- (E) a notificação dos postos de saúde que não cumprirem as medidas legais como a apreensão de crianças não vacinadas.

12. Segundo a opinião do autor do texto,

- (A) os postos de saúde precisam denunciar as famílias que negligenciam a imunização de seus filhos.
- (B) a queda na cobertura vacinal é recorrência da falta de divulgação midiática acerca das epidemias que avançam no Brasil.
- (C) a decisão pela vacinação dos filhos cabe aos pais, considerando pesquisas internacionais contrárias à imunização de crianças.
- (D) a militância antivacinal influencia a maior parte das famílias brasileiras a não frequentar postos de saúde para a imunização de doenças fatais.
- (E) a imposição do governo e as medidas judiciais que obrigam os pais a vacinarem seus filhos podem causar mais transtornos que benefícios às famílias.

13. A forma verbal destacada na frase “Não me parece, entretanto, que **tenhamos** chegado a uma situação dessas.” – expressa a ideia de possibilidade de que algo possa se realizar, assim como ocorre em:

- (A) ... **acabariamos** produzindo mais mal do que bem.
- (B) A ideia de que o sistema de saúde **precisa** ser protegido...
- (C) Há motivos para **acreditar** que as sucessivas quedas...
- (D) **Imagino** até que a adoção de medidas extremas...
- (E) Uma das piores coisas que pais **podem** fazer a seus filhos...

14. Assinale a alternativa em que as expressões destacadas na frase têm sentidos opostos.

- (A) ... proíbem o profissional de saúde de **divulgar** segredos de pacientes e até de **denunciar** crimes...
- (B) ... induzidos por vilões internacionais, se **recusam** a **imunizar** seus filhos.
- (C) ... o sistema de saúde precisa ser visto pelo cidadão como um **aliado** e não como um **adversário**.
- (D) ... elas terão **bons** motivos para **nunca** mais pôr os pés numa unidade.
- (E) ... se a fórmula mais draconiana **propugnada** pela promotora do Ministério Público fosse **adotada**...

15. Assinale a alternativa em que o termo destacado é empregado no texto em sentido figurado.

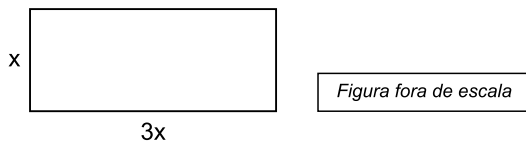
- (A) A ideia de que o sistema de saúde precisa ser protegido de ações que possam **minar** a confiança...
- (B) ... a legislação penal e código de ética proíbem o profissional de saúde de **divulgar** segredos de pacientes...
- (C) ... como o de uma epidemia **fatal** que avança rapidamente e pais que, induzidos por vilões internacionais...
- (D) Há motivos para acreditar que as sucessivas quedas na **cobertura** vacinal registradas.
- (E) Seja como for, tenho a convicção de que, se a fórmula mais draconiana **propugnada** pela promotora do Ministério Público...

16. Uma pessoa foi a uma papelaria com R\$ 40,00 e comprou 5 pastas de R\$ 3,50, cada uma, e 15 lápis iguais. Após pagar essa compra, recebeu R\$ 4,50 de troco. O valor de cada lápis era
- (A) R\$ 1,20.  
(B) R\$ 1,35.  
(C) R\$ 1,50.  
(D) R\$ 1,75.  
(E) R\$ 1,90.
17. Uma secretária está encaminhando 120 pastas que estão sobre sua mesa. Dessas pastas,  $\frac{1}{3}$  serão encaminhadas ao setor administrativo,  $\frac{2}{5}$  serão arquivadas, e das pastas restantes,  $\frac{1}{4}$  serão enviadas para revisão.
- A fração que o número de pastas que serão enviadas para revisão representa, em relação ao número de pastas que estavam sobre a mesa, é
- (A)  $\frac{2}{3}$   
(B)  $\frac{1}{3}$   
(C)  $\frac{3}{10}$   
(D)  $\frac{1}{15}$   
(E)  $\frac{1}{30}$
18. Uma editora está organizando 180 apostilas de inglês e 150 de espanhol em caixas, todas com o mesmo número de apostilas e na maior quantidade possível. Sabendo que cada caixa só poderá ter apostilas de um mesmo idioma, o número de apostilas de uma caixa é
- (A) 10.  
(B) 15.  
(C) 20.  
(D) 25.  
(E) 30.

19. Determinado departamento de uma empresa comprou 120 canetas, das quais 75% são azuis e as demais vermelhas. Sabendo que 10% das canetas azuis e 20% das canetas vermelhas foram colocadas na sala de reuniões, então, em relação ao número de canetas compradas, as que foram colocadas na sala de reuniões representam
- (A) 5,5%.  
(B) 8,0%.  
(C) 12,5%.  
(D) 24,5%.  
(E) 30,0%.
20. Em um fichário com 400 folhas, a razão entre o número de folhas preenchidas e o número total de folhas é  $\frac{3}{8}$ .  
Preenchendo mais 10 folhas desse fichário, a razão entre o número de folhas preenchidas e o número de folhas não preenchidas será de
- (A)  $\frac{3}{4}$   
(B)  $\frac{2}{3}$   
(C)  $\frac{3}{5}$   
(D)  $\frac{1}{3}$   
(E)  $\frac{1}{4}$
21. Em uma gráfica, a máquina A imprime 115 folhetos em 2 minutos, e a máquina B imprime 160 desses folhetos em 3 minutos, ambas trabalhando sem interrupção. Supondo que ambas as máquinas iniciem a impressão desses folhetos no mesmo instante, após 18 minutos de trabalho ininterrupto, a diferença entre o número de folhetos impressos por elas é de
- (A) 60.  
(B) 65.  
(C) 70.  
(D) 75.  
(E) 80.

22. Um funcionário, que precisa digitalizar determinado número de documentos, observou que, digitalizando 30 documentos por dia, levará 4 dias a mais do que levaria se digitalizasse 50 documentos por dia. O número de documentos que esse funcionário precisa digitalizar é
- (A) 300.  
(B) 350.  
(C) 400.  
(D) 450.  
(E) 500.

23. A medida do comprimento de um terreno retangular é o triplo da medida de sua largura, conforme indica a figura, cujas medidas estão em metros.



Sabendo que a área desse terreno é  $192 \text{ m}^2$ , a medida de seu comprimento é

- (A) 12 m.  
(B) 15 m.  
(C) 18 m.  
(D) 21 m.  
(E) 24 m.
24. José e Carlos são vendedores de uma concessionária de veículos e, juntos, venderam 42 automóveis em uma semana. Sabendo que o número de automóveis vendidos por Carlos foi igual a  $\frac{3}{4}$  do número de automóveis vendidos por José, então, o número de automóveis vendidos por Carlos foi
- (A) 15.  
(B) 18.  
(C) 22.  
(D) 25.  
(E) 27.



25. Durante uma exposição de arte foram oferecidas oficinas de desenho. A entrada para essa exposição custava R\$ 25,00 e cada oficina tinha o mesmo preço. Nessa exposição, uma pessoa gastou, com a entrada mais as oficinas, o valor de R\$ 61,00. Sabendo que essa pessoa participou de 3 oficinas, o valor cobrado por oficina era
- (A) R\$ 16,00.
  - (B) R\$ 14,00.
  - (C) R\$ 12,00.
  - (D) R\$ 10,00.
  - (E) R\$ 8,00.

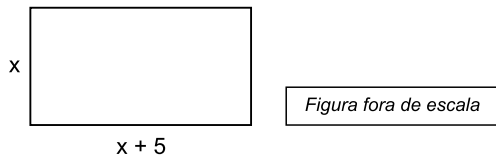
26. A tabela mostra o número de exemplares de determinado jornal que foi entregue em 4 bancas de revistas.

Banca	Nº de exemplares
A	30
B	24
C	x
D	x + 10

Sabendo que a média de exemplares entregues por banca foi 25, o número de exemplares entregues na banca D foi

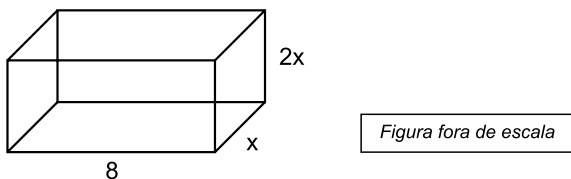
- (A) 28.
  - (B) 25.
  - (C) 23.
  - (D) 21.
  - (E) 19.
27. O quadro de avisos de uma firma tem a forma de um retângulo com 80 cm de altura e  $1,2 \text{ m}^2$  de área. A medida do comprimento desse quadro é
- (A) 1,2 m.
  - (B) 1,3 m.
  - (C) 1,4 m.
  - (D) 1,5 m.
  - (E) 1,6 m.

28. Um pedaço retangular de papel tem 50 cm de perímetro, e a medida do seu comprimento tem 5 cm a mais do que a medida da sua largura, conforme indica a figura, cujas medidas indicadas estão em centímetros.



Esse pedaço de papel foi recortado e somente a medida de seu comprimento foi reduzida em 2 cm. A medida do comprimento após a redução passou a ser de

- (A) 14 cm.  
(B) 13 cm.  
(C) 12 cm.  
(D) 11 cm.  
(E) 10 cm.
29. Uma peça maciça de madeira, no formato de um prisma reto, tem suas medidas, em centímetros, indicadas na figura.



Sabendo que o volume dessa peça é  $144 \text{ cm}^3$ , a medida de sua altura, indicada na figura por  $2x$ , é

- (A) 18 cm.  
(B) 16 cm.  
(C) 14 cm.  
(D) 12 cm.  
(E) 6 cm.
30. Um eletricitista comprou 40 m de fio. Cortou 3 pedaços de 150 cm, cada um, e 8 pedaços de 50 cm cada. Sabendo que o fio restante será totalmente dividido em 9 pedaços iguais, então, a medida de cada pedaço será de
- (A) 4,2 m.  
(B) 3,9 m.  
(C) 3,5 m.  
(D) 2,8 m.  
(E) 2,4 m.

## LEGISLAÇÃO

- 31.** A Constituição Federal estabelece que a lei penal
- (A) não pode retroagir em nenhum caso.
  - (B) é retroativa, como regra geral.
  - (C) retroagirá sempre, exceto se for para beneficiar o réu.
  - (D) não pode retroagir, exceto para impor pena mais severa ao réu.
  - (E) não retroagirá, salvo para beneficiar o réu.
- 32.** Na hipótese de alguém necessitar proteger um direito líquido e certo, não amparado por *habeas corpus* ou *habeas data*, quando o responsável pela ilegalidade ou abuso de poder for autoridade pública ou agente de pessoa jurídica no exercício de atribuições do Poder Público, a ação correspondente prevista no texto da Constituição Federal a ser ajuizada é
- (A) a ação popular.
  - (B) o mandado de segurança.
  - (C) o mandado de injunção.
  - (D) a ação civil pública.
  - (E) a ação direta de inconstitucionalidade.
- 33.** Se o Município de Sertãozinho pretender criar, por meio de lei e atendendo a todos os requisitos constitucionais, cargos em comissão, a serem preenchidos por servidores de carreira,
- (A) poderá fazê-lo, livremente para qualquer tipo de atribuição, desde que atenda ao interesse público.
  - (B) não poderá fazê-lo, uma vez que a Constituição Federal veda essa prática.
  - (C) poderá fazê-lo, desde que aprovado por lei complementar e com a anuência do Prefeito Municipal.
  - (D) poderá fazê-lo, desde que destinados apenas às atribuições de direção, chefia e assessoramento.
  - (E) não poderá fazê-lo, pois o texto constitucional permite a criação apenas de cargos efetivos a serem preenchidos por concurso público.
- 34.** Segundo a Lei Orgânica do Município de Sertãozinho, no tocante ao processo legislativo, se o Prefeito vetar um projeto de lei por julgá-lo totalmente inconstitucional,
- (A) o projeto será arquivado.
  - (B) a Câmara deve levar o caso ao Judiciário para apreciação e julgamento.
  - (C) o projeto deve retornar à Câmara para apreciação do veto.
  - (D) o autor deve apresentar um novo projeto com as devidas alterações.
  - (E) o veto poderá ser derrubado por maioria simples dos Vereadores.
- 35.** Nos termos do que dispõe a Lei Orgânica do Município de Sertãozinho a respeito da responsabilidade do servidor público municipal, é correto afirmar que
- (A) será responsável civil, criminal e administrativamente pelos atos que praticar no exercício do cargo ou função ou a pretexto de exercê-lo.
  - (B) responderá nas esferas civil e administrativa, exceto criminalmente, e poderá sofrer sequestro e perda de bens, na forma da lei.
  - (C) terá responsabilidade civil se causar prejuízos ao Município, devendo ressarcir os cofres públicos no valor dos danos, mas não poderá sofrer sequestro de bens.
  - (D) responderá administrativamente apenas na hipótese de causar danos ao erário, e criminal se cometer delito contra um particular.
  - (E) o Município é que deve ser responsabilizado pelos atos de seus servidores, devendo estes responderem apenas se agirem com dolo.
- 36.** Um órgão público estadual solicitou ao Município de Sertãozinho a cessão de Hércules, que é servidor público municipal e está no período de estágio probatório. Nessa situação, o Estatuto dos Servidores Municipais de Sertãozinho estabelece que Hércules
- (A) poderá ser cedido ao Estado, mas terá que pedir exoneração do cargo municipal.
  - (B) não poderá ser cedido ao Estado em razão de estar ainda em estágio probatório.
  - (C) poderá ser cedido ao Estado, mas seu afastamento suspenderá a contagem do estágio probatório.
  - (D) poderá ser cedido ao Estado, mas ao retornar ao seu cargo terá que cumprir mais três anos de estágio probatório.
  - (E) não poderá ser cedido ao Estado, uma vez que a Lei autoriza o afastamento de servidores municipais apenas para outros órgãos do Município.
- 37.** Assinale a alternativa que está em consonância com o disposto no Estatuto dos Servidores Municipais de Sertãozinho no que diz respeito às penalidades.
- (A) Na aplicação de penalidade não poderão ser considerados os antecedentes funcionais do servidor.
  - (B) O simples fato do servidor se apresentar com atraso para o serviço não ensejará qualquer penalidade.
  - (C) O servidor que demonstrar falta de compostura por atitudes ou gestos obscenos ficará sujeito à pena de demissão.
  - (D) Ao servidor que praticar ofensa física em serviço, a outro servidor ou a particular será demitido, salvo se a praticou em legítima defesa própria ou de outrem.
  - (E) A aposentadoria impede a punição do servidor que na ativa cometeu falta punível com a demissão.

38. Nos termos do Estatuto dos Servidores Municipais de Sertãozinho, como medida cautelar, no curso da apuração da irregularidade e comprovado que a manutenção do servidor no cargo possa trazer prejuízo ao desenvolvimento dos trabalhos de apuração, a autoridade instauradora do processo administrativo disciplinar poderá determinar o afastamento do servidor, pelo prazo
- (A) de até 30 (trinta) dias, improrrogável, com prejuízo da remuneração.
- (B) de até 30 (trinta) dias, prorrogável pelo mesmo prazo, sem prejuízo da remuneração.
- (C) de até 60 (sessenta) dias, sem prejuízo da remuneração, prorrogável por igual prazo.
- (D) máximo de 60 (sessenta) dias, sem prejuízo da remuneração.
- (E) máximo de 120 (cento e vinte) dias, com prejuízo da remuneração.
39. Segundo o que dispõe o Regimento Interno da Câmara Municipal de Sertãozinho, o Vereador que fixar residência fora do Município
- (A) deverá comunicar imediatamente o Presidente da Câmara.
- (B) ficará sujeito à perda do mandato.
- (C) terá direito ao auxílio-moradia.
- (D) receberá vale-transporte de 6% (seis por cento) do valor dos subsídios.
- (E) responderá na Justiça por quebra do decoro parlamentar.
40. A respeito das comissões, o Regimento Interno da Câmara de Sertãozinho estabelece que
- (A) são compostas de 5 (cinco) Vereadores.
- (B) serão provisórias ou definitivas.
- (C) serão compostas e presididas pelos partidos majoritários.
- (D) seus membros terão mandato de dois anos.
- (E) poderá haver comissão com poderes de investigação.
41. O atalho de teclado para alternar janelas abertas no Windows 7 é:
- (A) TAB
- (B) WINDOWS+TAB
- (C) SHIFT+TAB
- (D) CTRL+TAB
- (E) ALT+TAB
42. No Windows 7, em sua configuração padrão, ao abrir o arquivo "planilha.txt", o aplicativo que será aberto é o
- (A) Bloco de Notas.
- (B) Paint.
- (C) MS-Excel.
- (D) Internet Explorer.
- (E) Windows Explorer.
43. No MS-Word 2010, em sua configuração padrão, é habilitada a opção de exibir marcas de formatação. Assinale a alternativa que apresenta o significado da marcação ¶.
- (A) Nova página.
- (B) Nova seção.
- (C) Parágrafo.
- (D) Espaçamento.
- (E) Tabulação.
44. O seguinte trecho de texto foi editado no MS-Word 2010, em sua configuração padrão.
- Original <sup>Versão 1</sup>
- Assinale a alternativa que apresenta o recurso correto de formatação utilizado em <sup>Versão 1</sup>.
- (A) Negrito.
- (B) Sublinhado.
- (C) Subscrito.
- (D) Sobrescrito.
- (E) Alterar Maiúsculas e Minúsculas.
45. Qual das alternativas apresenta uma referência relativa para a célula A2, no MS-Excel 2010, em sua configuração padrão?
- (A) =A2\$
- (B) =\$A2
- (C) =A!2!
- (D) =A2
- (E) =\$A\$2

46. A fórmula do MS-Excel 2010, em sua configuração padrão, que tem como resultado o valor 5, é

- (A) =2\*4+1
- (B) =10/5\*0
- (C) =MÉDIA(10;5)
- (D) =SOMA(2;1)+2+SE(VERDADEIRO;2;0)
- (E) =SOMA(3;1)+1+SE(VERDADEIRO;0;2)

47. O nome do modo de apresentação do MS-PowerPoint 2010 que permite visualizar anotações é:

- (A) Modo de Exibição do Apresentador.
- (B) Modo de Apresentação de Slides.
- (C) Modo de Apresentação de Anotações.
- (D) Modo de Exibição de Anotações.
- (E) Modo de Visualização de Anotações.

48. A imagem a seguir apresenta um recorte de uma guia do MS-PowerPoint 2010. As legendas dos ícones foram intencionalmente omitidas. Considere que há uma apresentação aberta com 10 slides e o slide selecionado no momento é o slide 5.



Nesse contexto, assinale a alternativa que descreve o que irá acontecer quando o usuário clicar no ícone indicado pela seta na imagem.

- (A) Entrará em Modo de Apresentação de Slides a partir do slide atual.
- (B) Entrará em Modo de Apresentação de Slides a partir do primeiro slide.
- (C) Entrará em Modo de Apresentação de Anotações a partir do slide atual.
- (D) Entrará em Modo de Exibição de Anotações a partir do primeiro slide.
- (E) Entrará em Modo de Visualização de Anotações a partir do slide atual.

49. Para fazer uma consulta no buscador Google que encontre arquivos em formato PDF com a palavra "concurso", basta digitar no campo de busca:

- (A) concurso filetype:pdf
- (B) filetype:pdf concurso
- (C) file:pdf concurso
- (D) file=pdf concurso
- (E) pdf:concurso

50. Qual ou quais campo(s) de destinatários de um email permite(m) que o endereço de email fique invisível para os destinatários?

- (A) PARA
- (B) CC
- (C) CCO
- (D) CC e CCO
- (E) PARA e CCO





