

Governo do Estado de Santa Catarina
Fundação do Meio Ambiente (FATMA)

Edital nº 001/FATMA/2011

<http://fatma2011.fepese.org.br>

Caderno de Prova



4 de março



das 9:10 às 13:10 h



4 h de duração*



50 questões



M02

Analista Técnico de Gestão Ambiental • Classe III

Motorista



Confira o número que você obteve no ato da inscrição com o que está indicado no cartão-resposta.

* A duração da prova inclui o tempo para o preenchimento do cartão-resposta.

Instruções

Para fazer a prova você usará:

- este **caderno de prova**;
- um **cartão-resposta** que contém o seu nome, número de inscrição e espaço para assinatura.

Verifique, no caderno de prova, se:

- faltam folhas e a sequência de questões está correta.
- há imperfeições gráficas que possam causar dúvidas.

Comunique imediatamente ao fiscal qualquer irregularidade.

Atenção!

- Não é permitido qualquer tipo de consulta durante a realização da prova.
- Para cada questão são apresentadas 5 (cinco) alternativas diferentes de respostas (a, b, c, d, e). Apenas uma delas constitui a resposta correta em relação ao enunciado da questão.
- A interpretação das questões é parte integrante da prova, não sendo permitidas perguntas aos fiscais.
- Não destaque folhas da prova.

Ao terminar a prova, entregue ao fiscal o caderno de prova completo e o cartão-resposta devidamente preenchido e assinado.

Conhecimentos Gerais

(25 questões)

Língua Portuguesa

10 questões

1. Assinale a alternativa em que a vírgula separa vocativo.

- a. (X) Homens e mulheres, o Planeta Terra pede socorro.
- b. () O Planeta Terra, em real ameaça, pede socorro a homens e mulheres.
- c. () Ele prefere natureza e eu, a comodidade da cidade.
- d. () Palavras, palavras, palavras, todas ditas em vão!
- e. () A solução para o Planeta, disse o técnico em análise ambiental, é a preservação das matas nativas.

2. Assinale a alternativa que apresenta, entre parênteses, o **correto** significado das palavras.

- a. () concerto (remendo, reparo); conserto (sessão musical, apresentação)
- b. (X) eminente (célebre, ilustre); iminente (próximo, imediato)
- c. () infligir (transgredir, desobedecer); infringir (aplicar pena, castigo)
- d. () vultoso (acometido de congestão da face); vultuoso (grande, volumoso)
- e. () proscrever (receitar, ordenar explicitamente); prescrever (desterrar, banir)

3. Assinale a alternativa que apresenta todas as palavras **corretamente** acentuadas pela mesma regra.

- a. () pá, lá, Amapá, ananás, dominó
- b. () série, vãos, relêem, saíste, revólver
- c. (X) refém, vocês, porém, café, maracujá
- d. () fácil, amável, elétron, lâmpada, África
- e. () saúde, saída, metafísica, pólen, beribéri

4. Considere a frase:

“O ambientalista ficou revoltado quando o legislador lhe informou que as regras haviam mudado”.

Sobre a frase é correto afirmar.

- 1. Há três verbos conjugados no presente do indicativo.
- 2. O verbo “informar” é transitivo direto e indireto.
- 3. A expressão “lhe informou” pode ser trocada por “informou a ele” sem prejuízo de sentido.

Assinale a alternativa que indica todas as afirmativas **corretas**.

- a. () É correta apenas a afirmativa 1.
- b. () É correta apenas a afirmativa 3.
- c. () São corretas apenas as afirmativas 1 e 2.
- d. (X) São corretas apenas as afirmativas 2 e 3.
- e. () São corretas as afirmativas 1, 2 e 3.

5. Considere a frase:

“Estou espera de atitudes quais poderão trazer mais segurança pessoas e plantas que vivem no Planeta Terra”.

Assinale a alternativa que preenche adequadamente as lacunas, em se considerando o uso **correto** da crase.

- a. (X) à ; as ; às ; às
- b. () a ; as ; às ; às
- c. () à ; as ; as ; às
- d. () a ; às ; às ; as
- e. () à ; às ; às ; as

6. Leia o texto abaixo:

As aventuras não têm tempo, não têm princípio nem fim. E meus livros são aventuras; para mim são minha maior aventura. Escrevendo descubro sempre um novo pedaço de infinito [...] Em outras palavras, gostaria de ser um crocodilo vivendo no rio São Francisco. [...] Gostaria de ser um crocodilo porque amo os grandes rios, pois são profundos como a alma de um homem.

Guimarães Rosa. In. Literatura comentada

Sobre o texto é correto afirmar:

- 1. A alma humana está sendo comparada à profundidade de grandes rios.
- 2. Na frase: “Escreva, rabisque e ajude sua alma a viver aventuras incríveis” está empregado o modo imperativo afirmativo nos verbos.
- 3. As frases: “Escrevendo descubro sempre um novo pedaço do infinito” e “Gostaria de ser um crocodilo” apresentam o mesmo tempo verbal já que ambas dizem respeito à primeira pessoa do singular: “eu descobro” e “eu gostaria”.
- 4. O texto possui apenas um parágrafo.

Assinale a alternativa que indica todas as afirmativas **corretas**.

- a. () São corretas apenas as afirmativas 1 e 3.
- b. () São corretas apenas as afirmativas 1 e 4.
- c. () São corretas apenas as afirmativas 2 e 4.
- d. (X) São corretas apenas as afirmativas 1, 2 e 4.
- e. () São corretas apenas as afirmativas 1, 3 e 4.

Leia o texto abaixo e responda às questões 7, 8 e 9.

Na Fila

- Olha a fila! Olha a fila! Tem gente furando aí!
- Tanta pressa só pra ver um caixão...
- Um caixão, não: o caixão do Dom Pedro.
- Como é que eu sei que é o Dom Pedro mesmo que tá lá dentro?
- A gente tem que acreditar, ora. Já se acredita em tanta coisa que o Go...
- Com licença, é aqui a inauguração do Dom Pedro Segundo?
- Meu filho, duas coisas. Primeiro: não é o segundo, é o primeiro. E segundo: a inauguração do viaduto foi ontem. Esta fila é para ver o caixão de Dom Pedro.
- Eles inauguraram o viaduto primeiro.
- Como, primeiro?
- Primeiro inauguraram o viaduto e depois chegou o Dom Pedro Segundo?
- Segundo, não! Primeiro.
- Primeiro o quê?
- O Dom Pedro! Dom Pedro Primeiro!
- Primeiro chegou o Dom Pedro e depois inauguraram o viaduto.
- Olha a fila!
- Primeiro inauguraram o Viaduto Dom Pedro Primeiro e, segundo, chegou o Dom Pedro Primeiro em pessoa. Quer dizer, no caixão. Está claro! E eu acho que o senhor está puxando conversa para pegar lugar na fila. Não pode não. Eu cheguei primeiro.
- Ouvei dizer que ele não serviu para nada.
- Como, para nada? E o grito? E a Independência?
- Não! O viaduto.
- Ah. Não sei. Mas é bonito. Como esse negócio todo, o caixão, os restos do imperador, as bandeiras, Brasil e Portugal irmanados, essas coisas simbólicas e tal. Eu acho bacana.
- Olha a fila! Vamos andar, gente. Pra frente, Brasil.
- Andam dizendo que os portugueses nos enganaram, que quem está no caixão não é o Dom Pedro Primeiro, mas o D. Pedro Quarto. Nos lograram em três.
- Mas é a mesma coisa! Dom Pedro era primeiro aqui e quarto em Portugal.
- Então eu não compreendo por que ele quis voltar pra lá... Aqui tinha mais prestígio.
- Olha o furo!
- Me diga uma coisa. Quer dizer que o Dom Pedro Segundo era na verdade Dom Pedro Quinto?
- Em Portugal, seria. Não empurre. Segundo aqui e quinto em Portugal.

— Tem alguma coisa que ver com a diferença de horário, é?
— Não, minha senhora. Francamente. Se a senhora entende tão pouco de História, o que está fazendo nesta fila!
— Quero ver o caixão, ué! Essa badalação toda! E eu sempre gostei de velório. Só não me conformo de eles não abrirem o caixão pra gente ver a cara do moço.
— Não teria nada para ver. Só osso. Ele morreu há... nem sei. Mais de cem anos.
— Faz mais de cem anos que o Dom Pedro foi enforcado?!
— O senhor está confundindo com Tiradentes.
— Olha a fila!
— Afinal, o Mártir da Independência Luso-Brasileira quem é?
— É Dom Pedro Segundo. Aliás, Primeiro. Que Primeiro, é Tiradentes! Agora eu é que estou confuso! Essa fila não anda...
— Aquela festa que fizeram outro dia com o Triches, os Golden Boys e a Rosemary, para quem era?
— Para Tiradentes.
— Mas Tiradentes não era contra os portugueses?
— Era, mas faz muito tempo. Hoje Brasil e Portugal são uma coisa só. Eles podem até votar aqui.
— Para governador, presidente, essas coisas...
— Mais ou menos. É tudo simbólico, compreende?
— Como o viaduto?
— Isso. Olha a fila!

Luís Fernando Veríssimo

7. Assinale a alternativa **correta** de acordo com o texto.

- a. () O caixão era simbólico.
- b. () O narrador entende pouco de História.
- c. (X) O narrador usa frases que mantêm o diálogo entre as personagens.
- d. () O emissor usa o diálogo para testar a atenção do narrador.
- e. () O "Grito de Independência" não serviu para nada.

8. Assinale a alternativa **correta**.

- a. () A frase "Mas é a mesma coisa!" não tem verbo.
- b. () Dom Pedro Segundo deu nome ao viaduto inaugurado.
- c. () Em "Para governador, presidente, essas coisas..." temos o pronome possessivo "essas" que retoma as palavras "governador" e "presidente".
- d. () O narrador usa um jogo de palavras com os substantivos "primeiro" e "segundo" para enganar e persuadir o leitor do texto.
- e. (X) Na frase "Aquela festa que fizeram outro dia" equivale a "Aquela festa a qual fizeram outro dia".

9. Considere a seguinte frase extraída do texto:

— Aquela festa que fizeram outro dia com o Triches, os Golden Boys e a Rosemary, para quem era?

Assinale a alternativa **correta** em relação a essa frase.

- a. () Há apenas um verbo no passado do indicativo.
- b. (X) Há dois verbos: um no pretérito perfeito e outro no pretérito imperfeito.
- c. () Há dois verbos: um no futuro do pretérito e outro no pretérito imperfeito.
- d. () Se passássemos o primeiro verbo para o futuro do presente teríamos a seguinte construção: "Aquela festa que fiz outro dia..."
- e. () Os verbos estão corretamente empregados na segunda pessoa do singular.

10. Assinale a alternativa **correta**, considerando a concordância verbal adequada.

- a. () É dez horas da manhã.
- b. () Naquele relógio já soou duas horas.
- c. () Vende-se apartamentos à beira-mar.
- d. () Os Estados Unidos é uma grande potência.
- e. (X) Deve haver bons técnicos de Gestão Ambiental neste Estado.

Matemática

5 questões

Formulário

$$V_{\text{cilindro}} = \pi r^2 h$$

$$P_n = n!$$

$$A_{n,p} = \frac{n!}{(n-p)!}$$

$$C_{n,p} = \frac{n!}{p!(n-p)!}$$

11. Um navio petroleiro sofre uma avaria e derrama 100 litros de óleo no mar. A cada hora, a vazão aumenta em 8% em relação a vazão da hora anterior.

Se fizermos uma tabela de vazão do óleo, hora a hora, obteremos uma progressão:

- a. () aritmética de razão 1,08.
- b. () aritmética de razão 1,8.
- c. () geométrica de razão 0,8.
- d. (X) geométrica de razão 1,08.
- e. () geométrica de razão 8.

12. Em uma festa comparecem várias moças e rapazes. Em um dado momento, vão embora 10 moças, ficando o número de rapazes igual ao dobro do número de moças.

Em seguida, retiram-se 15 rapazes, ficando na festa igual número de moças e rapazes.

O total de jovens que compareceram à festa foi:

- a. () 45
- b. () 50
- c. (X) 55
- d. () 60
- e. () 85

13. O volume de um cilindro inscrito num cubo de aresta 6 cm é:

- a. () $6\pi \text{ cm}^3$
- b. () $24\pi \text{ cm}^3$
- c. () $36\pi \text{ cm}^3$
- d. () $48\pi \text{ cm}^3$
- e. (X) $54\pi \text{ cm}^3$

14. Dada a matriz abaixo:

$$\begin{bmatrix} \log_2 \frac{1}{8} & 1 & 0 \\ 3 & 2 & \log_3 81 \\ 1 & 2 & 4 \end{bmatrix}$$

O determinante dessa matriz é igual a:

- a. (X) -8
- b. () 0
- c. () 1
- d. () 2
- e. () 8

15. Um trem de passageiros é constituído de uma locomotiva e 5 vagões distintos, sendo um deles restaurante. Sabendo que a locomotiva deve ir à frente e que o vagão-restaurante não pode ser colocado imediatamente após a locomotiva, o número de maneiras diferentes de montar a composição é:

- a. () 24
- b. (X) 96
- c. () 120
- d. () 360
- e. () 720

Conhecimentos Básicos de Informática

5 questões

16. Assinale a alternativa que indica **corretamente** o comando utilizado para configurar as interfaces de rede do Sistema operacional Linux.

- a. () telnet
- b. () ipconfig
- c. () tcpipconfig
- d. () configip
- e. (X) ifconfig

17. Considere a figura abaixo retirada de uma planilha do Microsoft Excel 2007:

	A	B
1	Cliente	Valor
2	Empresa A	19.000,00
3	Empresa B	20.000,00
4	Empresa C	28.000,00
5	Empresa D	22.000,00
6	Empresa E	17.000,00
7		
8	Total	106.000,00
9	Quantidade de valores maiores que 19.000,00	3

Assinale a alternativa que indica **corretamente** a fórmula aplicada na célula B9:

- a. () =CONT.SE(B2:B6)
- b. () =CONT.SE(B2>B6)
- c. () =CONT.SE(B2:B6;&B2)
- d. (X) =CONT.SE(B2:B6;">"&B2)
- e. () =CONT.SE(&B2;">"B2:B3)


18. Identifique as afirmativas corretas a respeito do *Keylogger*.

- 1. É um programa capaz de capturar e armazenar as teclas digitadas pelo usuário no teclado de um computador.
- 2. São programas de computador concebidos para prevenir, detectar e eliminar vírus de computador.
- 3. O uso ilícito tem o objetivo de coletar informações de usuários, como nomes de usuário e senhas de contas de e-mail, sites de relacionamento, mensageiros instantâneos e qualquer outro serviço que precise de senha para se conectar, inclusive dados de acesso às contas bancárias.
- 4. É um tipo de periférico utilizado pelo usuário para a entrada manual no sistema de dados e comandos.

Assinale a alternativa que indica todas as alternativas **corretas**.

- a. () É correta apenas a afirmativa 2.
- b. () É correta apenas a afirmativa 4.
- c. (X) São corretas apenas as afirmativas 1 e 3.
- d. () São corretas apenas as afirmativas 2 e 3.
- e. () São corretas as afirmativas 1, 2, 3 e 4.

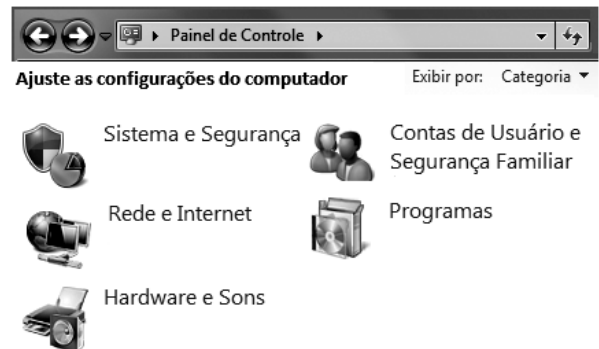
19. Identifique as afirmativas corretas a respeito da utilização do BrOffice.org – Writer

- 1. No menu **Exibir**, existem apenas dois modos de exibição: Layout de impressão e Layout da Web.
- 2. A combinação das teclas **Ctrl** + **R** (simultaneamente) alinha o texto à Esquerda.
- 3. O botão  permite copiar uma formatação de uma palavra para outra.
- 4. Uma das principais diferenças entre o Word e o Writer está na criação de PDF, haja vista que, no Word, necessitaria a instalação de um plug-in para exportar como PDF, e no Writer a função é nativa através do botão Exportar diretamente como PDF ou no menu Arquivo Exportar como PDF.

Assinale a alternativa que indica todas as alternativas **corretas**.

- a. () É correta apenas a afirmativa 1.
- b. () É correta apenas a afirmativa 4.
- c. () São corretas apenas as afirmativas 2 e 4.
- d. () São corretas apenas as afirmativas 3 e 4.
- e. (X) São corretas apenas as afirmativas 1, 2 e 4.

20. Analise a imagem abaixo:



Assinale a alternativa que indica a categoria adequada do **Grupo Doméstico** pertencente ao Painel de Controle do Windows 7:

- a. () Programas
- b. (X) Rede e Internet
- c. () Hardware e Sons
- d. () Sistema e Segurança
- e. () Contas de Usuário e Segurança Familiar

Direito e Legislação

5 questões

21. Acerca dos princípios fundamentais do direito constitucional brasileiro, assinale a alternativa **correta**:

- a. São Poderes da União, independentes e harmônicos entre si, o Legislativo, o Executivo e o Judiciário.
- b. A República Federativa do Brasil é formada pela união indissolúvel das Regiões, dos Estados, dos Municípios e do Distrito Federal.
- c. Todo o poder emana do povo, que o exerce por meio de representantes eleitos, vedada a participação direta.
- d. A construção de uma sociedade livre, justa e solidária constitui um dos princípios de regência das relações internacionais do Brasil.
- e. A República Federativa do Brasil tem como fundamentos a cidadania, a autonomia e a dignidade da pessoa humana.

22. O atributo do ato administrativo que lhe confere o poder de imposição unilateral em relação aos administrados, independentemente de concordância, chama-se:

- a. Tipicidade.
- b. Formalidade.
- c. Imperatividade.
- d. Autoexecutoriedade.
- e. Presunção de veracidade.

23. De acordo com a Lei nº 6.745, de 28 de dezembro de 1985, que estabelece o Estatuto dos Servidores Públicos Cíveis do Estado de Santa Catarina, entende-se por “vencimento”:

- a. A retribuição mensal paga ao funcionário pelo exercício do cargo.
- b. O acréscimo constituído em caráter definitivo, a título de adicional ou de gratificação.
- c. A vantagem concedida ao funcionário por tempo de serviço.
- d. A expressão pecuniária do cargo, consoante nível próprio, fixado em lei.
- e. O adicional recebido pela prestação de serviço extraordinário.

24. Conforme o disposto na Lei de Improbidade Administrativa (Lei nº 8.429/92), “frustrar a licitude de concurso público” caracteriza:

- a. Ato de improbidade administrativa que atenta contra os Princípios da Administração Pública.
- b. Ato de improbidade administrativa que causa prejuízo ao Erário.
- c. Ato de improbidade administrativa que importa enriquecimento ilícito.
- d. Ilícito meramente civil, não se sujeitando à punição por improbidade administrativa.
- e. Ilícito de natureza penal, sem sujeição à penalidade por improbidade administrativa.

25. Com base na Lei nº 14.675, de 13 de abril de 2009, que institui o Código Estadual do Meio Ambiente, a área destinada à “reserva legal” será de, no mínimo:

- a. 10% da propriedade ou posse.
- b. 20% da propriedade ou posse.
- c. 30% da propriedade ou posse.
- d. 40% da propriedade ou posse.
- e. 50% da propriedade ou posse.

Conhecimentos Específicos

(25 questões)

26. O componente do motor que compõe a parte inferior da câmara de combustão e tem a função de comprimir a mistura de ar e combustível é chamado de:

- a. pistão.
- b. válvula.
- c. bronzinas.
- d. comando de válvula.
- e. árvore de manivelas.

27. Nas ações de manutenção preventiva que o condutor deve adotar sempre antes de sair com o veículo, inclui-se a verificação:

- a. da pressão da suspensão, da condição das molas e da condição dos pneus.
- b. da condição dos faróis e lanternas dianteiras, da pressão da suspensão e do nível de óleo do motor.
- c. da condição dos cabos de vela e das velas, do nível do fluido de freio, dos faróis traseiros e do nível dos pneus.
- d. do nível de combustível, do nível de óleo do motor, da água do radiador e do funcionamento dos faróis e lanternas.
- e. do nível do reservatório do sistema de partida a frio, do nível do fluido de freio, da água do limpador de parabrisas e do consumo de combustível.

28. Os automóveis são equipados com motores de combustão interna e funcionam segundo o ciclo de quatro tempos.

O ciclo de quatro tempos é composto de:

- a. descarga, combustão, explosão e admissão.
- b. combustão, explosão, admissão e descarga.
- c. explosão, expansão, combustão e descarga.
- d. admissão, compressão, descarga e convecção.
- e. admissão, compressão, explosão e descarga.

29. O mecanismo que permite aos eixos e às rodas de um automóvel girar em rotações diferentes e a tração distribuída uniformemente é chamado de:

- a. semieixo.
- b. diferencial.
- c. eixo deslizante.
- d. junta homocinética.
- e. luva de acoplamento.

30. De acordo com o Código de Trânsito Brasileiro, compete à Polícia Rodoviária Federal, no âmbito das rodovias e estradas federais, realizar:

- a. o patrulhamento ostensivo, executando operações relacionadas com a segurança pública, com o objetivo de preservar a ordem, incolumidade das pessoas, o patrimônio da União, Estados e Municípios e de pessoas físicas.
- b. o patrulhamento ostensivo, executando operações relacionadas com a segurança no trânsito, com o objetivo de preservar a ordem e o patrimônio da União.
- c. o patrulhamento ostensivo, executando operações relacionadas com a segurança pública, com o objetivo de preservar a ordem, incolumidade das pessoas, o patrimônio da União e de terceiros.
- d. operações relacionadas com a segurança pública, com o objetivo de preservar a ordem, incolumidade das pessoas, o patrimônio da União e de terceiros.
- e. operações relacionadas com o trânsito em vias públicas, com o objetivo de preservar a ordem, incolumidade das pessoas, o patrimônio da União, Estados, Municípios e de terceiros.

31. O componente responsável em provocar a ignição da mistura na câmara de combustão dos motores a explosão é chamado de:

- a. Bico injetor.
 - b. Bobina de ignição.
 - c. Corpo de borboleta.
 - d. Válvulas de admissão e descarga.
 - e. Vela de ignição.
-

32. Nos automóveis com injeção eletrônica de combustível, a pressão na linha de alimentação é provida pelo(a):

- a. Sensor de rotação.
 - b. Sensor de pressão absoluta.
 - c. Regulador de pressão.
 - d. Bomba de combustível.
 - e. Bico injetor.
-

33. O veículo que tem a preferência da passagem em uma rotatória, de acordo com o Código de Trânsito Brasileiro, é o veículo que estiver:

- a. entrando na mesma.
 - b. circulando na mesma.
 - c. retornando pela mesma.
 - d. se aproximando da mesma.
 - e. circulando pela esquerda da mesma.
-

34. Os riscos e os perigos a que estamos sujeitos no trânsito estão relacionados com:

- a. Os veículos, os condutores, as vias de trânsito, o ambiente e o comportamento das pessoas.
- b. Os veículos, as vias de trânsito, a condição do tempo e o estado do condutor.
- c. As vias de trânsito, as condições do tempo e as condições do veículo.
- d. As condições do veículo, as condições do condutor, as vias de trânsito e o comportamento dos pedestres.
- e. As condições do veículo, as condições das rodovias, as condições do tempo e o estado dos pneus.

35. Os pneus têm três funções importantes: impulsionar, frear e manter a dirigibilidade do veículo.

É importante que o condutor confira sempre:

- a. Calibragem, altura, profundidade dos sulcos e geometria.
 - b. Altura, geometria, alinhamento da carcaça e pressão.
 - c. Calibragem, desgaste, deformações na carcaça e dimensões irregulares.
 - d. Pressão, alinhamento da carcaça, estrutura dos talões e numeração.
 - e. Numeração, pressão, sentido de rotação e rodízio.
-

36. Para o uso correto do cinto de segurança, o condutor deve:

- a. Ajustá-lo firmemente ao corpo, sem deixar folgas. A faixa inferior deve ficar acima do abdômen e a faixa transversal deve vir sobre o ombro, atravessando o peito sem tocar o pescoço.
- b. Ajustá-lo ao corpo, com pequena folga. A faixa inferior deve ficar sobre do abdômen e a faixa transversal deve vir sobre o ombro, atravessando o peito sem tocar o pescoço.
- c. Ajustá-lo com pequena folga ao corpo. A faixa inferior deve ficar abaixo do abdômen e a faixa transversal deve vir sobre o ombro, atravessando o peito e tocando o pescoço.
- d. Ajustá-lo firmemente ao corpo, sem deixar folgas. A faixa inferior deve ficar acima do abdômen e a faixa transversal deve vir sobre o ombro, atravessando o peito e tocando o pescoço.
- e. Ajustá-lo firmemente ao corpo, sem deixar folgas. A faixa inferior deve ficar abaixo do abdômen e a faixa transversal deve vir sobre o ombro, atravessando o peito sem tocar o pescoço.

37. De acordo com o Código de Trânsito Brasileiro, os usuários das vias terrestres devem:

- a. () Evitar atos que constituam perigo para o trânsito de pessoas idosas e de animais.
- b. () Evitar danos aos veículos e propriedades públicas e, sempre que possível, facilitar o fluxo natural das rodovias.
- c. () Evitar atos que embora causem obstáculo para o trânsito de veículos, de pessoas ou animais não causam danos a propriedades públicas ou privadas.
- d. (X) Abster-se de todo ato que possa constituir perigo ou obstáculo para o trânsito de veículos, de pessoas ou de animais, ou ainda causar danos a propriedades públicas ou privadas.
- e. () Apenas evitar causarem danos a propriedades públicas ou privadas, impedindo o trânsito de veículos.

38. De acordo com o Código de Trânsito Brasileiro, dispositivos de alarme sonoro e de iluminação vermelha intermitente só poderão ser usados quando:

- a. () Da efetiva prestação de serviço de trânsito.
- b. (X) Da efetiva prestação de serviço de urgência.
- c. () Da efetiva prestação de serviços médicos.
- d. () Da efetiva prestação de serviços de transportes.
- e. () Da efetiva prestação de serviços de condução de autoridades.

39. De acordo com o Código de Trânsito Brasileiro, antes de iniciar qualquer manobra que implique um deslocamento lateral, o condutor deverá indicar seu propósito de forma clara e com a devida antecedência por meio de:

- a. () Gestos de braço e de cabeça.
- b. () Sinal luminoso de faróis ou fazendo gestos de braço.
- c. () Sinal luminoso de faróis e movimento do braço esquerdo.
- d. (X) Luz indicadora de direção de seu veículo, ou fazendo gestos convencionais de braços.
- e. () Luz indicadora de direção e sinal luminoso de faróis.

40. De acordo com o Código de Trânsito Brasileiro, o estacionamento de veículos motorizados de duas rodas só será feito em:

- a. (X) Posição perpendicular à guia da calçada e junto a ela, salvo quando houver sinalização que determine outra condição.
- b. () Posição oblíqua à guia da calçada ou a 30 cm dela, salvo quando não houver sinalização que determine outra condição.
- c. () Posição paralela à guia da calçada ou a 30 cm dela, salvo quando não houver sinalização que determine outra condição.
- d. () Posição perpendicular à guia da calçada ou 20 cm dela, salvo quando não houver sinalização que determine outra condição.
- e. () Posição paralela à guia da calçada ou a 30 cm dela, salvo quando houver sinalização que determine outra condição.

41. De acordo com o Código de Trânsito Brasileiro, a velocidade máxima permitida para a via será indicada por meio de sinalização, obedecidas suas características técnicas e as condições de trânsito.

Onde não existir sinalização regulamentadora, a velocidade máxima nas vias urbanas arteriais será de:

- a. () 40 quilômetros por hora.
- b. () 50 quilômetros por hora.
- c. (X) 60 quilômetros por hora.
- d. () 80 quilômetros por hora.
- e. () 90 quilômetros por hora.

42. De acordo com o Código de Trânsito Brasileiro e respeitadas as condições operacionais de trânsito e da via, a velocidade mínima não poderá ser inferior à(a):

- a. () 10 quilômetros por hora.
- b. () 20 quilômetros por hora.
- c. () 50 quilômetros por hora.
- d. (X) Metade da velocidade máxima estabelecida.
- e. () Dois terços da velocidade máxima estabelecida.

43. De acordo com o Código de Trânsito Brasileiro, os sinais de trânsito classificam-se em:

- a. () apenas verticais, transversais, aéreos e sonoros.
- b. () apenas verticais, horizontais, transversais e luminosos.
- c. () apenas gestos do agente de trânsito e do condutor, sonoros e transversais.
- d. () apenas gestos do agente de trânsito e do condutor, sonoros e superiores.
- e. (X) verticais, horizontais, dispositivos de sinalização auxiliar, luminosos, sonoros e gestos do agente de trânsito e do condutor.

44. De acordo com o Código de Trânsito Brasileiro, será obrigatória a expedição de novo Certificado de Registro de Veículo quando o proprietário:

- a. () substituir as rodas do veículo.
- b. (X) mudar de domicílio ou residência.
- c. () adicionar um reboque ao veículo.
- d. () adicionar um novo acessório ao veículo.
- e. () colocar películas nos vidros do veículo.

45. De acordo com o Código de Trânsito Brasileiro, o condutor que estiver com a carteira de habilitação de categoria diferente à do veículo que estiver conduzindo estará cometendo infração:

- a. (X) Gravíssima.
- b. () Grave.
- c. () Média.
- d. () Leve.
- e. () Levíssima.

46. De acordo com o Manual Brasileiro de Sinalização de Trânsito, em seu volume I, Sinalização Vertical de Regulamentação, o sinal representado ao lado refere-se a:



- a. () Sentido obrigatório de pedestre.
- b. () Via de pedestre à esquerda.
- c. (X) Pedestre, ande pela esquerda.
- d. () Cruzamento de pedestre pela esquerda.
- e. () Sentido de fluxo de pedestre em calçada.

47. De acordo com o Manual Brasileiro de Sinalização de Trânsito, em seu volume I, Sinalização Vertical de Regulamentação, o sinal representado ao lado refere-se a:



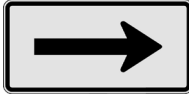
- a. () Peso máximo permitido.
- b. (X) Circulação exclusiva de caminhão.
- c. () Sentido obrigatório para caminhões.
- d. () Orientação exclusiva para caminhões.
- e. () Peso máximo permitido para dois eixos.

48. De acordo com o Manual Brasileiro de Sinalização de Trânsito, em seu volume I, Sinalização Vertical de Regulamentação, o sinal representado ao lado refere-se a:



- a. () Passagem de nível.
- b. () Comprimento máximo permitido.
- c. () Comprimento máximo recomendado.
- d. () Altura máxima recomendada.
- e. (X) Altura máxima permitida.

49. De acordo com o Manual Brasileiro de Sinalização de Trânsito, em seu volume I, Sinalização Vertical de Regulamentação, o sinal representado ao lado refere-se a:



- a. Sentido único.
 - b. Sentido obrigatório.
 - c. Permitido virar à direita.
 - d. Vire à direita.
 - e. Preferencial.
-

50. De acordo com o Manual Brasileiro de Sinalização de Trânsito, em seu volume I, Sinalização Vertical de Regulamentação, o sinal representado ao lado refere-se a:



- a. Ciclovia.
- b. Ciclistas à direita.
- c. Passagem sinalizada de ciclistas.
- d. Trânsito de ciclistas.
- e. Faixa de ciclistas.

**Página
em Branco.
(rascunho)**



FEPESE • Fundação de Estudos e Pesquisas Sócio-Econômicos
Campus Universitário • UFSC • 88040-900 • Florianópolis • SC
Fone/Fax: (48) 3953-1000 • <http://www.fepese.org.br>