

PRACTICA CALIFICADA

1. En la Balanza en Cuenta Corriente,
 Cuando el saldo es positivo se puede: Marque Verdadero (V) o Falso (F)
 - a) Exportar capital, para pagar deudas al resto del mundo ()
 - b) Solicitar prestamos al exterior ()
 - c) Incrementar la reserva monetaria internacional del país ()
 - d) Desinvertir en el exterior ()

2. Si usted fuera autoridad publica y tuviera que asumir una decisión sobre "mejorar" el saldo negativo de la Balanza en Cuenta Corriente peruana?. Marque con un circulo la respuesta correcta
 - a) Debería ir a conversar con el Banco mundial
 - b) Debería tratar de mejorar las relaciones con el MERCOSUR
 - c) Debería financiarse con prestamos o reducir las reservas internacionales
 - d) Debería ir a conversar con el BID

3. Dado el cuadro hipotético sobre la Balanza de Pagos del Perú en millones de dólares. Se pide completar el cuadro

Cuentas / años	2001	2002
1 Mercaderías y Servicios		
1.1 Exportaciones		3300
1.2 Importaciones	3100	
A.-	1400	-200
Fletes	-120	
Rentas de Inversiones		-1100
Viajes	-80	50
Otros (servicios diversos)	-300	-300
B.- .	-1300	-1450
C.- TRANSFERENCIAS	300	450
D.-		

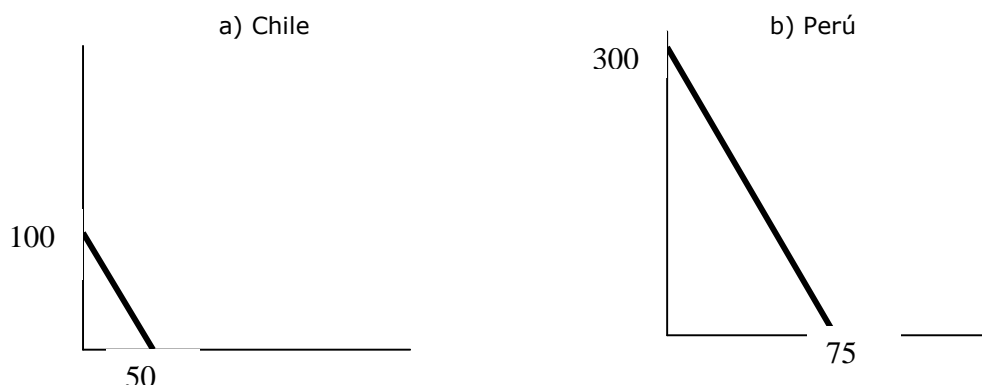
4. Señalar si es falso (F) o verdadero (V)
 - 4.1 Un país tiene ventaja absoluta cuando produce un bien a un precio menor que otro país ()
 - 4.2 La definición del comercio internacional implica en términos generales solo el intercambio de bienes y servicios entre los diferentes países ()
 - 4.3 El dumping es generado por todas las empresas de cada país para proteger a sus empresas industriales de los productos importados ()
 - 4.4 Un arancel es un tipo de impuesto monetario que se aplica sobre los bienes importados ()

5. Dado el cuadro siguiente:

Bien	HORAS	
	Perú	Ecuador
01 Polo	8	6
01 Gorro	2	4

- a) Se pide determinar ¿Que país es más eficiente en la producción de Polo?:
 Porque:
 - b) Se pide determinar ¿Que país es más eficiente en la producción de Gorro?:
 Porque:
6. "La restricción absoluta contra la compra e importación de ciertos productos de otros países, esta barrera puede ser pública formal o informal y; puede ser patrocinado por el gobierno o por una industria". Este párrafo hace alusión a la barrera comercial denominada:

7. Se tiene los gráficos en los que se tiene dos países que producen chompa



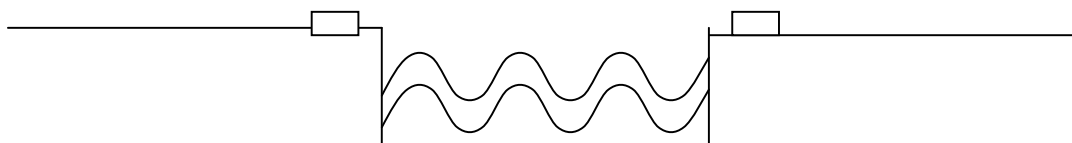
- Se pide determinar ¿Que país tiene ventaja comparativa en la producción de chompa?:
- Porque:
- ¿Cual es el valor de la relación de Chile?:
- ¿Cual es el valor de la relación de Perú?:

8. Completar el cuadro siguiente y hallar el valor de la Balanza en Cta Cte:

1 Topy Top SA vende pijamas de algodón a una empresa japonesa	1500
2 Hirahoka SA compra equipos de buceo a una empresa griega	2000
3 El MEF paga intereses por el préstamo recibido del City Bank USA	50
4 El BCRP paga intereses por el préstamo recibido del FMI	100
5 La embotelladora Inka Kola recibe utilidades de su sucursal de USA	400
6 Nestle/Perú envía a su casa matriz Nestle/Suiza utilidades	200
7 Telefónica Perú envía dividendos a su casa matriz de España	500
8 Saga-Perú paga intereses por un préstamo recibido del Bank Morgan	300
9 Pacocha SA a fletes por traer autos de Taiwán	400
10 La Toyota/Japón empleo un barco peruano para llevar cobre al Japón	300
11 Perú unilateralmente apoya con alimentos al gobierno inglés	150

A.- BALANZA COMERCIAL	
Exportaciones FOB	
Importaciones FOB	
B. - BALANZA DE SERVICIOS	
b.1 Servicios Financieros	
- Sector Público	
* Deuda Pública a L/P	
* BCRP	
- Sector Privado	
* Utilidades	
* Dividendos	
* Intereses	
b.2 Servicios no Financieros	
- Fletes	
- Transacciones del gobierno	
- Transportes diversos	
- Viajes	
- Servicios diversos	
- Pagos de Trasferencias	
BALANZA EN CUENTA CORRIENTE	

9. Complete el grafico y señale los INCONTER: FOB, DES, DEQ, FAS



10. Diferencia de la función del FMI y el BM

FMI:
 BM:

11. Dentro de los commodities de metales como la plata, el cobre, el oro, el zinc, el plomo, el níquel, el estaño. ¿Cuál de ellos tiene un precio promedio al orden de \$ 580 la onza troy? Respuesta:

12. Señalar si es falso (F) o verdadero (V)

12.1 Las exportaciones se cuantifican en su valor CIF, mientras que las importaciones se computan a su valor FOB, es decir que incluye el costo comercial mas el seguro y flete ()

12.2 Los riesgos y costos asociados con las transacciones internacionales son mayores que aquellos que están asociados con las transacciones domésticas ()

13. Si por un dólar americano se da 2,500 pesos colombianos, esto implica que el dólar con respecto al peso colombiano se encuentra: (devaluado/ apreciado)

14. "La restricción absoluta contra la compra e importación de ciertos productos de otros países, esta barrera puede ser pública formal o informal y; puede ser patrocinado por el gobierno o por una industria". Este párrafo hace alusión a la barrera comercial denominada:

15. El bloque económico al que pertenece el Perú se denomina:

16. Complete el cuadro siguiente sobre la Balanza de Pagos:

Referencia	Monto
1 MERCADERIAS Y SERVICIOS	
Exportaciones	
Importaciones	3068
BALANZA COMERCIAL	-463
Fletes	-56
Rentas de inversiones	
Viajes	-43
Otros	-296
BALANZA DE SERVICIOS	-1164
PAGO DE TRANSFERENCIAS	132
BALANZA EN CUENTA CORRIENTE	
2 CAPITALES	
Inversión directa	25
Prestamos privados	104
Prestamos públicos	664
TOTAL DE CAPITAL A LARGO PLAZO	
BALANZA NETA BASICA	
TOTAL DE CAPITAL A CORTO PLAZO	-104
BALANZA TOTAL	
MOVIMIENTO COMPENSATORIO	

¿A cuanto asciende el Movimiento Compensatorio.....

17. Principales Mercados de Cambios

ASIA		LATINOAMERICA	
Yen Japonés	118.78	Bolivianos(Bolivia)	738.0
Dólar Australiano	1.6554	Real (Brasil)	3.35
Libra Esterlina	0.6337	Pesos(Chile)	73.088
Euro	0.9195	Bolívares(Venezuela)	738.01
Dólar Singapur	1.7650	Pesos(Uruguay)	0.6335

Se pide:

- a) Compare Asia y Latinoamérica y señale la moneda más Devaluada:
- b) Compare Asia y Latinoamérica y señale la moneda más Revaluada:
- c) En Asia cual es la moneda más Depreciada:
- d) En Latinoamérica cual es la moneda más Apreciada:

18. Dado las funciones siguientes:

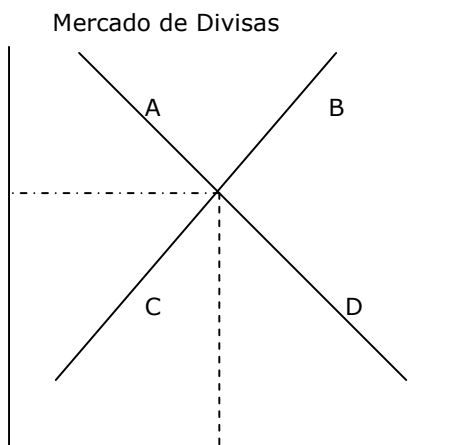
$$D\$ = 210 - 0.20 TC$$

$$O\$ = 90 + 0.80 TC$$

Se pide:

- a) Si el TC de equilibrio se aprecia en 20%, el TC del mercado negro es:
- b) EL total de unidades monetarias demandas y ofertadas en el equilibrio:
- c) Graficar: a

19. Dado el gráfico siguiente:



- a) Los exportadores se verán favorecidos en el punto:
- b) Los importadores se verán desfavorecidos en el punto:
- c) Que significa la distancia de C a D :
- d) Que significa la distancia de B a A :

20. Señale dos agentes que demandan divisas:

- a)
- b)